


هو العليم

نام و نام خانوادگی:


تاریخ:

کار در کلاس
پایه ی اول

۱ وسایل زیر از کدام عضو بدن ما محافظت می کنند؟ شکل آن عضو را بکش.




۲ غذای هر جانور را کنار آن بکش.



۳ دو مورد از فواید مرغ را با کشیدن نقاشی نشان بده.



۴ تصویری از یک گل شاداب در سمت راست و تصویری از یک گل پژمرده در سمت چپ بکش.



بازخورد آموزگار:



بیاموز — Biamoz.com

بزرگترین مرجع آموزشی و نمونه سوالات درسی تمامی مقاطع

شامل انواع « نمونه سوالات فصل به فصل / پایان ترم / پاورپوینت / جزوه / ویدئوهای آموزشی

گام به گام / طرح درس / طرح جابر و ... | همگی در وبسایت « بیاموز دات کام »

برای ورود به هر پایه روی آن کلیک کنید:

دبستان

اول	دوم	سوم	چهارم	پنجم	ششم
-----	-----	-----	-------	------	-----

متوسطه اول

هفتم	هشتم	نهم
------	------	-----

متوسطه دوم

تجربی	ریاضی	انسانی
دهم	دهم	دهم
یازدهم	یازدهم	یازدهم
دوازدهم	دوازدهم	دوازدهم