

به نام خدای یکتا

آزمون علوم اول دبستان تا پایان فصل ۶

نام : ..... تاریخ :


کدام یک از این خوراکی ها یا غذاها برای ما مفید نیستند؟




کدام یک موجود زنده نیستند؟




حرکت کردن کدام حیوان با بقیه فرق می کند؟



کدام جانوران برای ما مشکلاتی به وجود می آورند؟



قسمت خوراکی کدام یک از گیاهان زیر ریشه نیست؟



کدام جاندار نمی تواند در آب زندگی کند؟



انتظارات	خیلی خوب	خوب	قابل قبول
خوراکی های مفید و نامفید را می شناسد.			
موجود زنده را از غیرزنده تشخیص می دهد.			
با انواع حرکات جانوران آشناست.			
جانوران مفید و غیرمفید را می شناسد.			
با گیاهان دارای ریشه خوراکی آشناست.			
جانداران آبی را می شناسد.			

# پیاموز | Biamoz.com

بزرگترین مرجع آموزشی و نمونه سوالات درسی تمامی مقاطع

شامل انواع | نمونه سوالات | فصل به فصل | پایان ترم | جزوه |

ویدئوهای آموزشی | گام به گام | طرح درس | طرح جابر | و ...

اینستاگرام

گروه تلگرام

کانال تلگرام

برای ورود به هر پایه در سایت ما روی اسم آن کلیک کنید

## دبستان

اول	دوم	سوم	چهارم	پنجم	ششم
-----	-----	-----	-------	------	-----

## متوسطه اول

هفتم	هشتم	نهم
------	------	-----

## متوسطه دوم

دهم	یازدهم	دوازدهم
-----	--------	---------