

به نام خدا

آزمون ریاضی - نوبت دوم

اداره آموزش و پرورش

نام و نام خانوادگی :

آموزگار :


پایه اول

ردیف

سوالات

-۱

دسته های ده تایی درست کن و عدد مربوط به آن را بنویس



ده تایی یکی

ده تایی یکی

به عدد -----

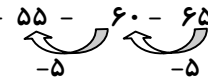

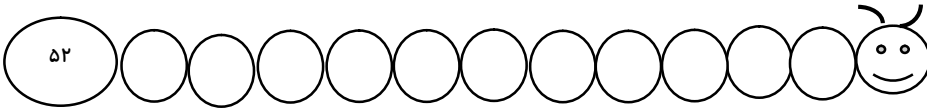
به عدد -----

به حروف -----

به حروف -----

-۲

ادامه بده



-۳

حاصل عبارت ها را به دست بیاور و علامت مناسب بگذار <=>

$10 + 20 + 5 + 5 = \dots\dots\dots$

$20 + 10 + 5 + 3 = \dots\dots\dots$

$10 + 10 - 5 = \dots\dots\dots$

$20 + 5 + 10 - 10 = \dots\dots\dots$

-۴

آذر ۱۲ کتاب داستان ۵ کتاب شعر و ۷ دفتر دارد او روی هم چند کتاب و دفتر دارد؟ (با چوب خط)



..... + =

-۵

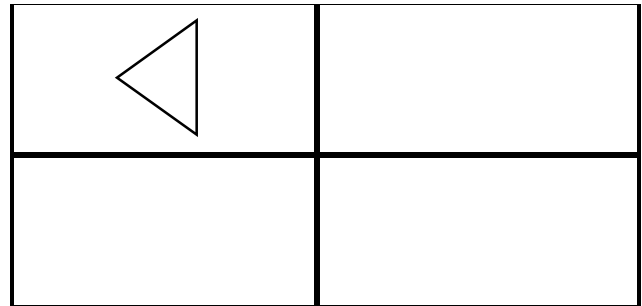

برای شکل روبه رو یک مسئله بنویس



..... - =

-۶

باتوجه به شکل سمت چپ و تقارن عمودی شکل سمت راست را کامل کن قرینه مثلث را در سه قسمت دیگر بکش



-۷

جاهای خالی را کامل کن



ساعت بین --- و --- است
ساعت از --- گذشته است



ساعت --- است

۸

با توجه به شکل داده شده جاهای خالی را کامل کن



۴ ۳ ۲ ۱

شکل شماره --- کوتاه ترین است. شکل شماره --- و --- هم اندازه است

راهنمای توصیف عملکرد به صورت تحلیلی

ردیف	ملاک و شواهد	مقیاس	کاملاً مسلط	با نظارت	با راهنمایی و نظارت	ن آ
۱	می تواند شکل را دسته بندی کند و عدد را به رقم و حروف بنویسد					
۲	الگویابی و عدد نویسی را درست ادامه داده است					
۳	جمع و تفریق مضارب ۱۰ را انجام داده و علامت مناسب انتخاب کرده است					
۴	جم سه عددرا باچوبخط درست نمایش داده است					
۵	درک مفهوم تفریق و مسئله نویسی را انجام داده است					
۶	درک تقارن عمودی و تشخیص قرنه مثلث را درست انجام داده است					
۷	درک زمان و مفهوم بین و مفهوم گذشته در ساعت					
۸	مفاهیم کوتاه و بلندی و هم اندازه را درک می کند.					

بازخور دآموزگار: -----



خود سنجی :