
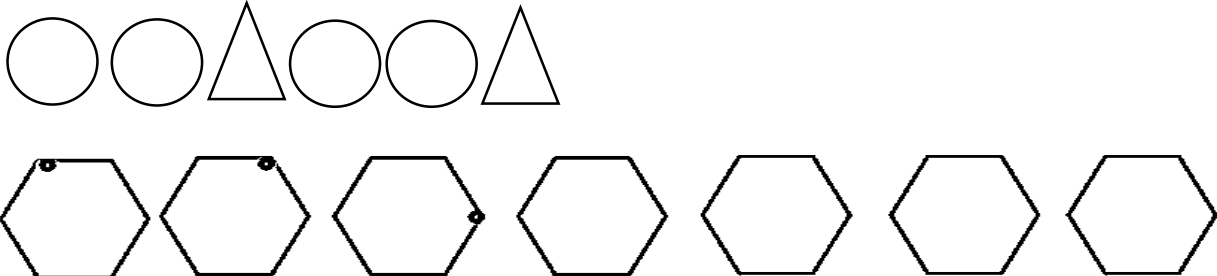



نمره	شرح سوالات	ردیف
۴	<p>دور عدد درست خط بکش.</p>  <p>۵    ۴    ۳                      ۳    ۲    ۱                      ۳    ۲    ۱</p>	۱
۴	<p>آگور را ادامه بده.</p> 	۲
۴	<p>شکل های ست چپ و راست روی هم چند تا است ؟ با یک عدد نشان بده.</p> 	۳

۵


عدد هر دسته را بنویس .



۳

۶

اگر به تعداد شکل های سمت راست از شکل های سمت چپ برداریم چند تا می ماند عدد آن را بنویس .



۲

۷

جدول شگفت انگیز را کامل کن.

۱	۲		
۴			۱
۲	۱		۳
۳	۴	۱	۲

۲	۱	۴	۳
۳			۲
۱			۴
۴	۳	۲	۱

۴

۸

دور دسته ی بیش تر را خط بکش .



۲

۲۰

جمع نمرات

تعداد پاسخ صحیح : ..... تعداد پاسخ اشتباه : ..... نمره کسب شده : .....

# پیاموز | Biamoz.com

بزرگترین مرجع آموزشی و نمونه سوالات درسی تمامی مقاطع

شامل انواع | نمونه سوالات | فصل به فصل | پایان ترم | جزوه |

ویدئوهای آموزشی | گام به گام | طرح درس | طرح جابر | و ...

اینستاگرام

گروه تلگرام

کانال تلگرام

برای ورود به هر پایه در سایت ما روی اسم آن کلیک کنید

## دبستان

اول	دوم	سوم	چهارم	پنجم	ششم
-----	-----	-----	-------	------	-----

## متوسطه اول

هفتم	هشتم	نهم
------	------	-----

## متوسطه دوم

دهم	یازدهم	دوازدهم
-----	--------	---------