

۱- عدد هر دسته را بنویس و بین آن ها علامت مناسب $< = >$ بگذار.


۲- عددهای قبل و بعد عدد نوشته شده را بنویس .

--	--

۳- در طرف دیگر علامت عدد مناسب بنویس .

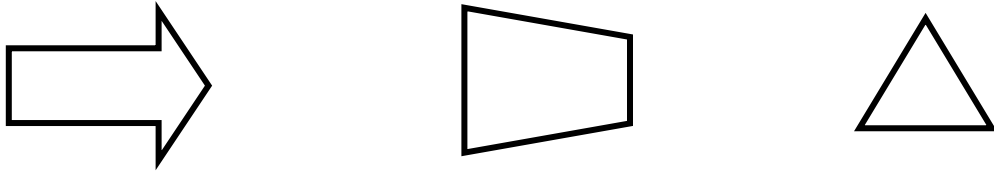
--	--	--

۴- شکل را طوری کامل کن که دو نیمه ی آن مثل هم باشد .



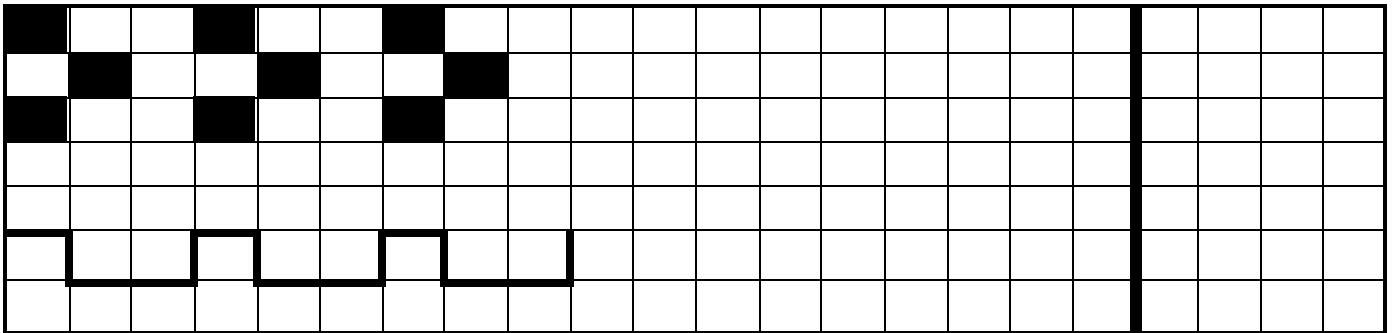
۵- شکل های هر دو دسته روی هم چند تا می شوند؟ جواب را با چوب خط نشان بده و عدد حاصل را بنویس .

۶- با استفاده از خط کش خطی بکش که هر شکل را دو نیمه ی مثل هم کند .



۷- به تعداد عدد نوشته شده از شکل ها خط بزن و تعداد شکل های باقیمانده را با چوب خط و عدد نشان بده و بنویس .

۸- در هر ردیف الگوها را پیدا کن و ادامه بده الگویی را که پیدا کرده ای در سمت راست بکش .



۹- مربع شگفت انگیز را کامل کن .

۱	۴		۳	۲	۵
۲		۳		۴	۶
۶	۱	۲	۵		۴
۵	۳	۴	۲	۶	
	۶	۱	۴	۵	۲
۴		۵	۶	۱	



بچه های کلم موفق باشید

پیاموز | Biamoz.com

بزرگترین مرجع آموزشی و نمونه سوالات درسی تمامی مقاطع

شامل انواع | نمونه سوالات | فصل به فصل | پایان ترم | جزوه |

ویدئوهای آموزشی | گام به گام | طرح درس | طرح جابر | و ...

اینستاگرام

گروه تلگرام

کانال تلگرام

برای ورود به هر پایه در سایت ما روی اسم آن کلیک کنید

دبستان

اول	دوم	سوم	چهارم	پنجم	ششم
-----	-----	-----	-------	------	-----

متوسطه اول

هفتم	هشتم	نهم
------	------	-----

متوسطه دوم

دهم	یازدهم	دوازدهم
-----	--------	---------