

به نام خدا

ارزشیابی ریاضی پایه ی اول

نام و نام خانوادگی :

اُمید ۶ تراش داشت. برادرش ۳ تراشِ دیگر به او داد. اُمید چند تراش دارد؟




با کامل کردن شکل ها جمع ها را پاسخ بده.



$$۳ + ۶ =$$



$$۵ + ۲ =$$



$$۲ + ۳ =$$

ابتدا شکل ها را کامل کن. سپس با توجه به عبارت ها ، شکل ها را خط بزن و تفریق ها را پاسخ بده.



$$۷ - ۳ =$$





$$۱۰ - ۶ =$$

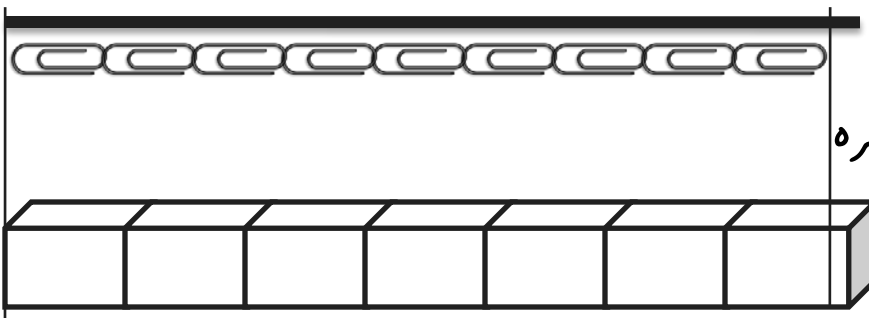


$$۶ - ۲ =$$

چند تا بودند؟ چند تا رفتند؟ چند تا ماندند؟ تفریق مربوطه را کامل کن.




اندازه ی نی ، به اندازه ی کمی بیشتر از چند چینه و گیره است؟



کمی بلندتر از.....گیره

کمی بلندتر از.....چینه

دسته بندی کن و در جدول یکی و ده تایی بنویس.



ده تایی	یکی

بازخورد آموزگار : خیلی خوب خوب قابل قبول نیاز به تلاش بیشتر

پیاموز | Biamoz.com

بزرگترین مرجع آموزشی و نمونه سوالات درسی تمامی مقاطع

شامل انواع | نمونه سوالات | فصل به فصل | پایان ترم | جزوه |

ویدئوهای آموزشی | گام به گام | طرح درس | طرح جابر | و ...

اینستاگرام

گروه تلگرام

کانال تلگرام

برای ورود به هر پایه در سایت ما روی اسم آن کلیک کنید

دبستان

اول	دوم	سوم	چهارم	پنجم	ششم
-----	-----	-----	-------	------	-----

متوسطه اول

هفتم	هشتم	نهم
------	------	-----

متوسطه دوم

دهم	یازدهم	دوازدهم
-----	--------	---------