

پایه اول ابتدایی

به نام خدای مهربان

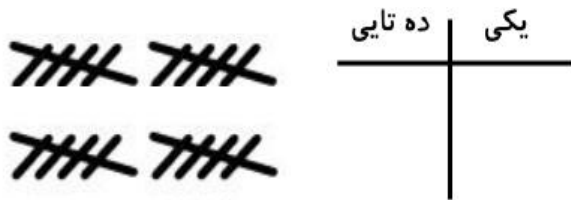
دبستان:

نام و نام خانوادگی:

آزمون مداد کاغذی ریاضی

تاریخ:

۱. دسته های ده تایی درست کن و عدد مربوط را بنویس.



با عدد: _____ با حروف: _____

با عدد: _____ با حروف: _____

۲. در هر ردیف الگو را ادامه بده.

۵ - ۱۰ - ۱۵ - - - - -

۸۰ - ۹۰ - - - - -

۳. مسئله را از هر راهی دوست داری حل کن.

دو دسته ی ۱۰ تایی ماهی در آب شنا می کردند. سه دسته ی ماهی دیگر به آن ها اضافه شدند.

حالا چند ماهی در آب شنا می کنند؟

..... ماهی در آب شنا می کنند.

۴. با چوب خط حساب کن.

$5 + 3 + 11 =$

$8 + 2 + 10 =$

۵. اعداد مربوط به هم را وصل کن.

۵۰

۷۸

۹۳

۲۵

۹

۱۸

هفتاد و هشت

پنجاه

نود و سه

نه

هیجده

بیست و پنج

۶. اعداد زیر را به ترتیب ادامه بده.

۴۵									
۶۸									

۷. حاصل هر کدام را بنویس.

$$۲۰ + ۲۰ + ۱۰ + ۱۰ + ۴ = \text{-----} \quad ۱۰ + ۲۰ + ۵ + ۵ = \text{-----}$$

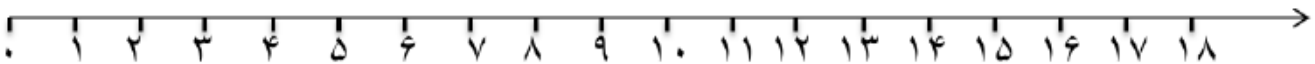
$$۱۰ - ۷ = \text{-----} \quad ۱۰ + ۱۰ - ۵ = \text{-----}$$

۸. مسئله را با کمک محور حل کن.

علی ۱۵ مداد داشت. ۳ مداد را به حسن داد. ۳ مداد دیگر را به حمید داد. ۳ مداد دیگر را به حسین داد.

چند مداد برای علی باقی ماند؟

----- مداد برای علی باقی ماند.



۹. ساعت چند است؟



ساعت بین و است.



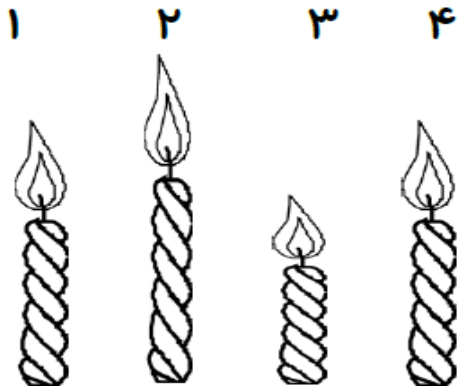
ساعت است.

۱۰. جواب را به دست آور و علامت مناسب بگذار.

$$۱۵ + ۵ = \text{---} \quad \square \quad ۸ + ۸ = \text{---} \quad ۳۰ + ۳۰ = \text{---} \quad \square \quad ۲۰ + ۴۰ = \text{---}$$

۱۱. در جاهای خالی عدد مناسب بنویس.

شمع شماره ی.....کوتاه ترین شمع است.



شمع شماره ی.....بلندترین شمع است.

شمع شماره ی.....هم اندازه ی

شمع شماره ی..... است.

بازخورد توصیفی آموزگار:.....

ردیف	انتظارات	خ خ	خ	ق ق	ن ت
۱	قراردادن عدد در جدول ده تایی و یکی				
۲	شمارش ۵ تا ۵				
۳	انجام حل مسئله				
۴	حل جمع و تفریق با چوب خط				
۵	شناسایی اعداد بارقم و حروف				
۶	انجام الگوهای عددی				
۷	نوشتن زمان ساعت				
۸	انجام جمع های ده تایی و یکی				
۹	مقایسه اعداد				



خودسنجی:

نظر والدین:.....

پیاموز | Biamoz.com

بزرگترین مرجع آموزشی و نمونه سوالات درسی تمامی مقاطع

شامل انواع | نمونه سوالات | فصل به فصل | پایان ترم | جزوه |

ویدئوهای آموزشی | گام به گام | طرح درس | طرح جابر | و ...

اینستاگرام

گروه تلگرام

کانال تلگرام

برای ورود به هر پایه در سایت ما روی اسم آن کلیک کنید

دبستان

اول	دوم	سوم	چهارم	پنجم	ششم
-----	-----	-----	-------	------	-----

متوسطه اول

هفتم	هشتم	نهم
------	------	-----

متوسطه دوم

دهم	یازدهم	دوازدهم
-----	--------	---------