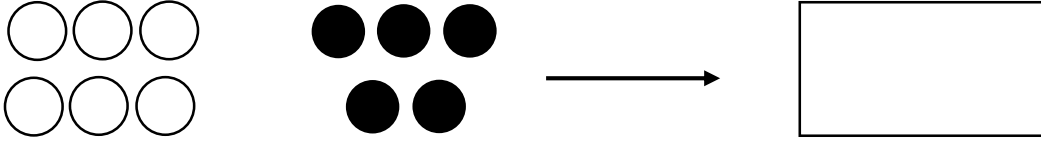
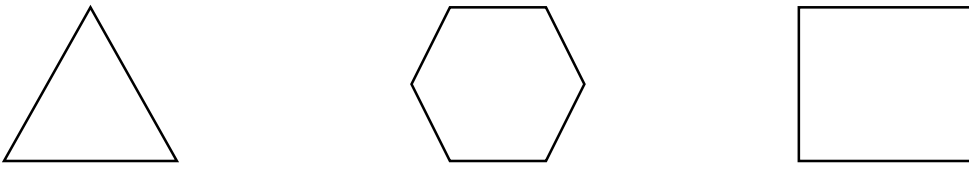
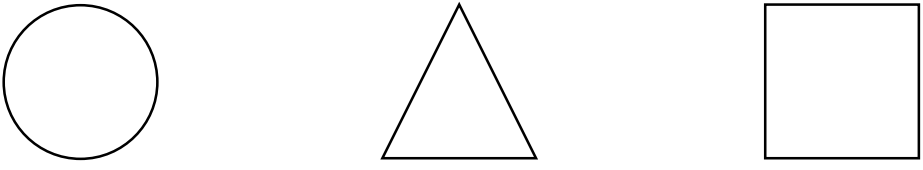





ردیف	سوالات				
۱	<p>شکل‌های هر دو دسته روی هم چندتا می‌شود با چوب خط نشان بده.</p> 				
۲	<p>لبه‌ها را با قرمز و گوشه‌ها را با آبی رنگ بزن.</p> 				
۳	<p>بین هر دو عدد علامت مناسب < = > بگذار.</p> <p>۷۰ ○ ۴۲ ۲۵ ○ ۴۶ ۵ + ۴ ○ ۱۰ - ۱</p>				
۴	<p>در جای خالی عدد مناسب بنویس.</p> <p>۲۰ + ۱۰ + ۴ =</p> <p>۵ + ۳۰ + ۵ =</p>				
۵	<p>نام هر شکل را بنویس.</p>  <p>.....</p>				
۶	<p>دسته‌های ده تایی بساز و جدول را با توجه به آن کامل کن و در جای خالی عدد مناسب بنویس.</p>  <table border="1" style="margin-left: auto; margin-right: auto;"> <tr> <td>ده تایی</td> <td>یکی</td> </tr> <tr> <td style="border-right: 1px solid black; height: 80px;"></td> <td style="height: 80px;"></td> </tr> </table> <p>با عدد:</p> <p>با حروف:</p>	ده تایی	یکی		
ده تایی	یکی				
۷	<p>از عدد ۴۵ تا ۵۵ بنویس.</p> <p>۴۵ - - - - ۴۹ - - - - - ۵۴ -</p>				

جدول را کامل کن.

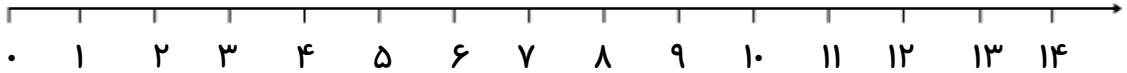
۱۳	۳۵
.....	هشتاد

۸


جمع روبه‌رو را روی محور نشان بده و جواب آن را بنویس.

۶ + ۴ =

۹



تفریق روبه‌رو را به کمک شکل کامل کن.



۱۰

..... - =

زمانی را که ساعت مقابل نشان می‌دهد روی نقطه چین زیر بنویس.



.....

۱۱

الگوی عددی زیر را با دقت ادامه بده.

۰ - ۵ - - - - -

۱۲

علی ۱۲ مداد آبی و ۵ مداد قرمز دارد. او روی هم چند مداد دارد؟ (با شکل یا چوب خط نشان بده.)

۱۳

دانش آموز:

خ خ ق ق ن ت

جمع و تفریق را به خوبی انجام می‌دهد.

اعداد را می‌شناسد و قادر به شمارش است.

مسئله را به خوبی درک و آن را حل می‌کند.

نظر والدین:

نظر معلم:

با آرزوی موفقیت برای شما

تعداد سوالات: ۱۳

پیاموز | Biamoz.com

بزرگترین مرجع آموزشی و نمونه سوالات درسی تمامی مقاطع

شامل انواع | نمونه سوالات | فصل به فصل | پایان ترم | جزوه |

ویدئوهای آموزشی | گام به گام | طرح درس | طرح جابر | و ...

اینستاگرام

گروه تلگرام

کانال تلگرام

برای ورود به هر پایه در سایت ما روی اسم آن کلیک کنید

دبستان

اول	دوم	سوم	چهارم	پنجم	ششم
-----	-----	-----	-------	------	-----

متوسطه اول

هفتم	هشتم	نهم
------	------	-----

متوسطه دوم

دهم	یازدهم	دوازدهم
-----	--------	---------