

باسمه تعالی

نام آموزگار:

نام و نام خانوادگی:

پایه: اول

۱. از ۶۸ تا ۷۵ بنویس.

۲. الگو را ادامه بده.

۰ - ۵ - ۱۰ -

۱۲ - ۲۲ -

۳. عدد قبل و بعد را بنویس.

		۸۵		
--	--	----	--	--

		۳۰		
--	--	----	--	--

۴. با عدد و با حروف بنویس.

پانزده

۸۲

چهل و سه

۵۴

نود و شش

۲۷

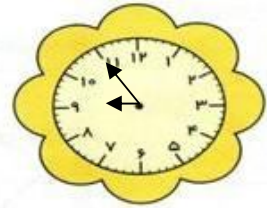
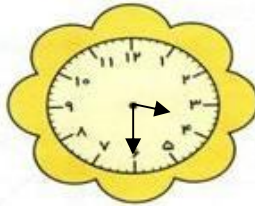
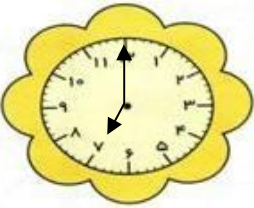
۵. برای عدد ۳۸ شکل بکش در جدول بنویس.

ده تایی	یکی

شکل حروف

۶. ۹ ده تایی و ۵ یکی می شود

۶۷ می شود ده تایی و یکی



ساعت

ساعت بین و است.

ساعت کمی مانده به


۸. علی ۴ بسته ده تایی و ۳ یکی مداد داشت پدرش ۳ بسته ده تایی دیگر مداد به او داد. حالا علی چند مداد دارد؟

۹. آذر ۲۷ مازیک داشت. ۷ مازیک را به ثریا داد. حالا چند مازیک دارد؟

۱۰. رضا ۱۴ شاخه گل داشت ۶ گل را به پدرش و ۶ گل را به مادرش داد. چند گل برایش مانده؟



۱۱. ۷ بچه در کلاس بودند. زنگ اول ۴ نفر و زنگ دوم ۵ نفر دیگر به کلاس آمدند. حالا چند بچه در کلاس است؟



۱۲. جمع و تفریق کنید.

$$۱۰ + ۲۰ + ۱۰ + ۹ =$$

$$۴۸ - ۸ =$$

$$۳۰ + ۲۰ + ۷ =$$

$$۳۰ - ۱۰ - ۵ =$$

۱۳. با دو رقم ۷ و ۵ عددهای دو رقمی بنویس.

۱۴. جدول را کامل کن.

۵	۹	۷	۴	۶	۸
۶		۸	۹	۵	
۷	۶			۴	۹
۴	۸			۷	۶
	۷	۴	۶		۵
۸	۵		۷	۹	

۱۵. علامت مناسب > = < بنویس.

$$۷۳ \square ۳۷$$

$$۴۰ - ۲۰ \square ۳۰ + ۱۰$$

۱۶. یک مثلث بکش و داخل آن یک مربع بکش.

پیاموز | Biamoz.com

بزرگترین مرجع آموزشی و نمونه سوالات درسی تمامی مقاطع

شامل انواع | نمونه سوالات | فصل به فصل | پایان ترم | جزوه |

ویدئوهای آموزشی | گام به گام | طرح درس | طرح جابر | و ...

اینستاگرام

گروه تلگرام

کانال تلگرام

برای ورود به هر پایه در سایت ما روی اسم آن کلیک کنید

دبستان

اول	دوم	سوم	چهارم	پنجم	ششم
-----	-----	-----	-------	------	-----

متوسطه اول

هفتم	هشتم	نهم
------	------	-----

متوسطه دوم

دهم	یازدهم	دوازدهم
-----	--------	---------