

امتحان درس ریاضی پایه اول

بسمه تعالی

نام و نام خانوادگی: کلاس:

۱ عدد هایی را که به حروف نوشته شده اند را به عدد بنویس؟

پنجاه و هفت: () چهل و سه: () هفتاد و نه: () نود و هشت: ()

۲ جا های خالی را با عدد مناسب کامل کن؟

$5 + 5 + 5 + 5 =$

$20 + 20 + 10 + 5 =$

$10 + 5 + 3 =$

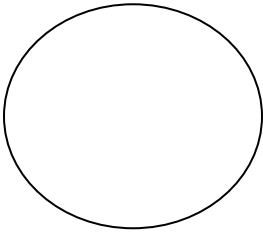
$20 - 10 + 5 - 3 =$

۳ جواب جمع و تفریق را بنویس، مقایسه کن و علامت های مناسب را انتخاب کن؟

$20 + 30 = \square$ $60 - 10 = \square$
 $10 + 8 = \square$ $10 + 7 = \square$

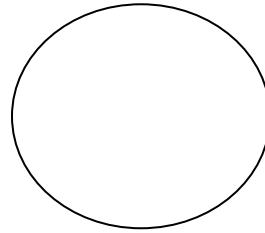
$< = >$ $< = >$

۴ زمانی که ساعت نشان می دهد را بنویس؟



زمان بین

ساعت و است



زمان بین

ساعت و است

۵ از ۹۰ تا ۱۰۰ یکی یکی بنویس؟

۶ عدد دسته را بشمار و عدد مربوط به آن را بنویس پس از آن جدول را کامل کن؟


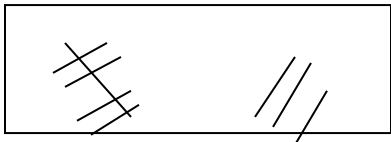
<input type="checkbox"/>	<input type="checkbox"/>	<input type="checkbox"/>	<input type="checkbox"/>
<input type="checkbox"/>	<input type="checkbox"/>	<input type="checkbox"/>	<input type="checkbox"/>
<input type="checkbox"/>	<input type="checkbox"/>	<input type="checkbox"/>	<input type="checkbox"/>
<input type="checkbox"/>	<input type="checkbox"/>	<input type="checkbox"/>	<input type="checkbox"/>
<input type="checkbox"/>	<input type="checkbox"/>	<input type="checkbox"/>	<input type="checkbox"/>
<input type="checkbox"/>	<input type="checkbox"/>	<input type="checkbox"/>	<input type="checkbox"/>

	ده تایی
	یکی

۷ برای مسئله یک شکل ساده بکش و جواب را پیدا کن و روی محور نشان بده.
 علی ۹ بادکنک داشت، ۵ تا از بادکنک ها به هوا رفت. چند بادکنک مانده است.

حاصل جمع ها را با چوب خط پیدا کن و عبارات جمع را بنویس؟

۸



$$\dots\dots\dots + \dots\dots\dots = \dots\dots\dots$$

پیاموز | Biamoz.com

بزرگترین مرجع آموزشی و نمونه سوالات درسی تمامی مقاطع

شامل انواع | نمونه سوالات | فصل به فصل | پایان ترم | جزوه |

ویدئوهای آموزشی | گام به گام | طرح درس | طرح جابر | و ...

اینستاگرام

گروه تلگرام

کانال تلگرام

برای ورود به هر پایه در سایت ما روی اسم آن کلیک کنید

دبستان

اول	دوم	سوم	چهارم	پنجم	ششم
-----	-----	-----	-------	------	-----

متوسطه اول

هفتم	هشتم	نهم
------	------	-----

متوسطه دوم

دهم	یازدهم	دوازدهم
-----	--------	---------