

تاریخ:

به نام خدا

نام و نام خانوادگی:

ریاضی نوبت دوم

۱- ریاضی دانم با توجه به نام اشکال هندسی با شابلون شکل آنها را بکش.

مستطیل

دایره

مثلث

مربع



۲- عزیزم با عدد یا حروف بنویس.

هجده



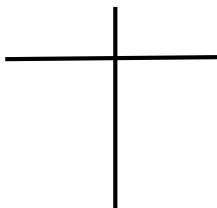
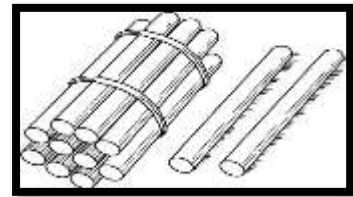
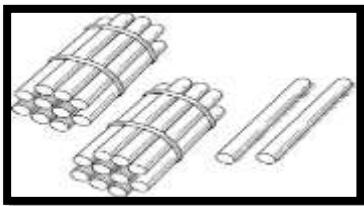
۶۷

۳- جاهای خالی را با توجه به الگوی عددی مربوط پرکن.

۱۰ - ۲۰ - ۳۰ - ..... - ..... - ..... - ..... - ..... - ..... - .....


..... - ..... - ..... - ..... - ..... - ..... - ۶۰ - ۶۵ - ۷۰ - ۷۵

۴- گل زیبا در جای خالی عدد مناسب بنویس سپس اعداد را با هم مقایسه کن. ( $<$   $=$   $>$ )



۵- با کمک محور مساله را حل کن .

ثریا ۳ حلزون داشت . صبح زود ۴ حلزون دیگر گرفت .  
علی هم ۲ حلزون به او داد حالا ثریا ..... حلزون  
دارد.

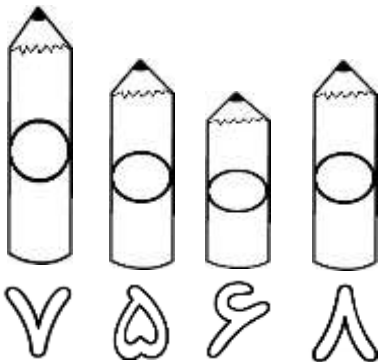


۶- پاسخ جمع و منهای زیر را به شکل ذهنی بنویس.




$$۳۵ - ۵ = \dots\dots\dots \quad ۱۰ + ۲۰ + ۵ + ۴ = \dots\dots\dots$$


۷- در جای خالی عدد مناسب بنویس .



مداد شماره ..... با مداد شماره ..... هم اندازه است .  
مداد شماره ..... بلندترین مداد است .  
مداد شماره ..... کوتاه ترین مداد است .



۸- ساعت بین ..... و ..... است .  
کمی از ساعت ..... گذشته .  
به ساعت ..... مانده .



باز خورد آموزگار:

# پیاموز | Biamoz.com

بزرگترین مرجع آموزشی و نمونه سوالات درسی تمامی مقاطع

شامل انواع | نمونه سوالات | فصل به فصل | پایان ترم | جزوه |

ویدئوهای آموزشی | گام به گام | طرح درس | طرح جابر | و ...

اینستاگرام

گروه تلگرام

کانال تلگرام

برای ورود به هر پایه در سایت ما روی اسم آن کلیک کنید

## دبستان

اول	دوم	سوم	چهارم	پنجم	ششم
-----	-----	-----	-------	------	-----

## متوسطه اول

هفتم	هشتم	نهم
------	------	-----

## متوسطه دوم

دهم	یازدهم	دوازدهم
-----	--------	---------