

پایه ی اول

به نام خدای مهربان

دبستان


تکلیف ریاضی

تم ۱


نام زیبای من:




تاریخ:

۱- شکل سمت راست را رنگ بزن.



۲- به تعداد هر شکل خانه ی مقابل آن را رنگ کن.










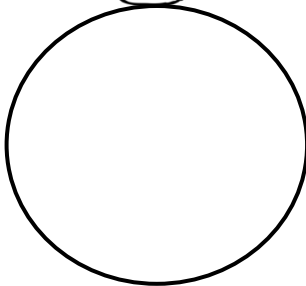

۳- الگوهای منظم را پیدا کن و رنگ بزن.



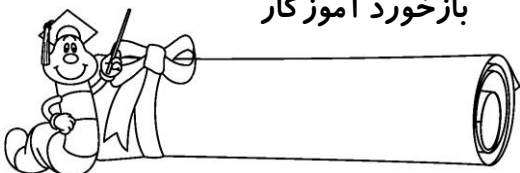
۴- دسته هایی را که تعداد شکل هایشان مثل هم است، با خط کش به هم وصل کن.




۵- به تعداد انگشتان هر دست شکل بکش.



بازخورد آموزگار



خود سنجی



پیاموز | Biamoz.com

بزرگترین مرجع آموزشی و نمونه سوالات درسی تمامی مقاطع

شامل انواع | نمونه سوالات | فصل به فصل | پایان ترم | جزوه |

ویدئوهای آموزشی | گام به گام | طرح درس | طرح جابر | و ...

اینستاگرام

گروه تلگرام

کانال تلگرام

برای ورود به هر پایه در سایت ما روی اسم آن کلیک کنید

دبستان

اول	دوم	سوم	چهارم	پنجم	ششم
-----	-----	-----	-------	------	-----

متوسطه اول

هفتم	هشتم	نهم
------	------	-----

متوسطه دوم

دهم	یازدهم	دوازدهم
-----	--------	---------