

۱ ۱ ۱

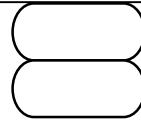
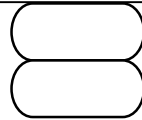
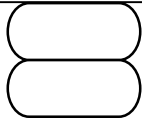
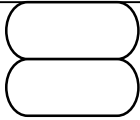
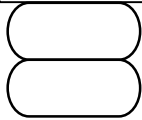
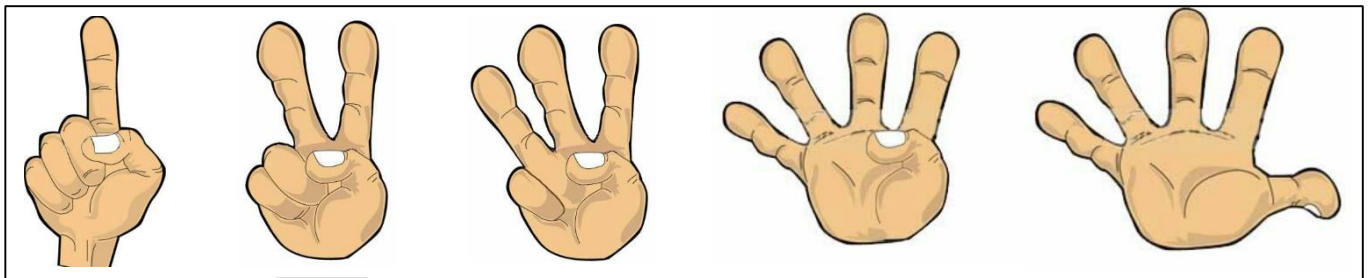
۲ ۲ ۲

۳ ۳ ۳



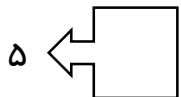
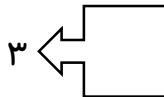
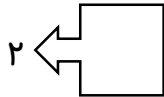
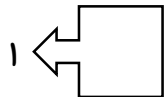
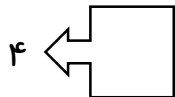
۴ ۴ ۴

۵ ۵ ۵

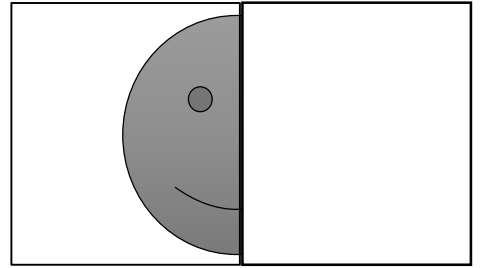


انگشتان هر دست را بشمار و برای هر دست هم چوب خط بکش و هم عدد را بنویس



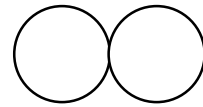
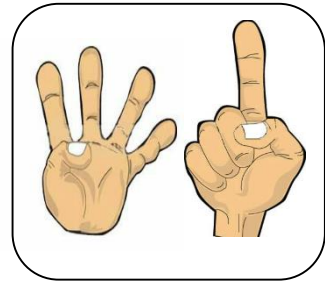
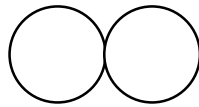
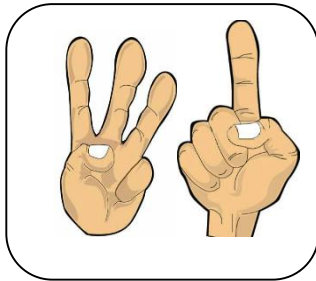
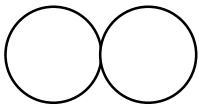
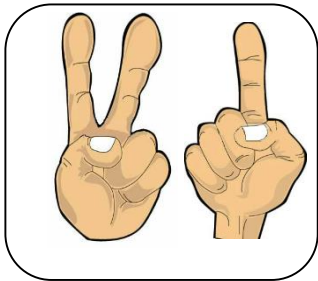
به تعداد عددی که نوشته شده چوب خط بکش



نیمه دیگر شکل را در آن طرف خط آینه ای کامل کن



شکل های دو دست با هم چند تا می شوند عدد و چوب خط آن را بنویس



		۳	۲
۳	۲		۵
	۴		۳
۲	۳	۵	

	۵	۴	۳
۴	۳		
		۳	۴
۳	۴		۲

		۳	۴
۴	۳	۲	
۳	۱		
۲	۴		۳

۲	۱		۳
۳		۲	۱
۱	۲		۴
۴		۱	

پیاموز | Biamoz.com

بزرگترین مرجع آموزشی و نمونه سوالات درسی تمامی مقاطع

شامل انواع | نمونه سوالات | فصل به فصل | پایان ترم | جزوه |

ویدئوهای آموزشی | گام به گام | طرح درس | طرح جابر | و ...

اینستاگرام

گروه تلگرام

کانال تلگرام

برای ورود به هر پایه در سایت ما روی اسم آن کلیک کنید

دبستان

اول	دوم	سوم	چهارم	پنجم	ششم
-----	-----	-----	-------	------	-----

متوسطه اول

هفتم	هشتم	نهم
------	------	-----

متوسطه دوم

دهم	یازدهم	دوازدهم
-----	--------	---------