
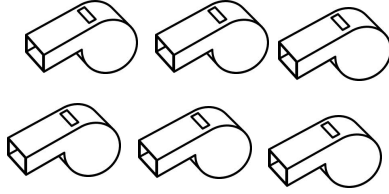



به نام خدا

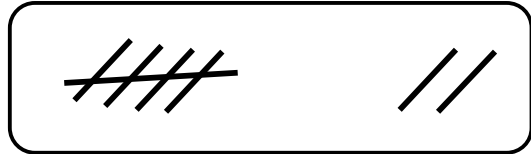

آزمون ریاضی پایه اول تم ۱۱

نام و نام خانوادگی

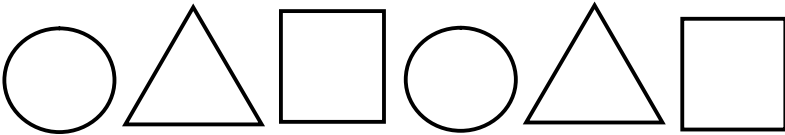


۱ - عدد هر دسته را بنویس .


۲ - عدد دسته را بنویس . اگر تعداد دو طرف برابر بود علامت مساوی = بگذار .




۳ - با شابلون الگو را ادامه بده .



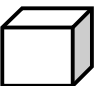
۴ - طرف دیگر شکل را کامل کن .




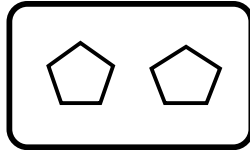
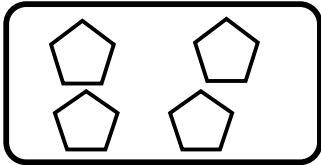
۵ - اندازه ی مداد برابر با چند چینه است ؟ (با چوب خط و عدد)



.....






۶ - شکل های هر دو دسته روی هم چند تا می شود ؟ (با چوب خط و عدد)



۷ - جدول را کامل کن .

۲	۶		۴	۵	۱
۱	۴	۵		۳	۲
۳		۴	۲	۶	۵
۶	۵	۲	۳	۱	
۵		۶	۱		۳
	۳	۱		۲	۶

۸ - خط تقارن شکل های روبه رو را رسم کن .



ضعیف



متوسط



خوب



عالی

پیاموز | Biamoz.com

بزرگترین مرجع آموزشی و نمونه سوالات درسی تمامی مقاطع

شامل انواع | نمونه سوالات | فصل به فصل | پایان ترم | جزوه |

ویدئوهای آموزشی | گام به گام | طرح درس | طرح جابر | و ...

اینستاگرام

گروه تلگرام

کانال تلگرام

برای ورود به هر پایه در سایت ما روی اسم آن کلیک کنید

دبستان

اول	دوم	سوم	چهارم	پنجم	ششم
-----	-----	-----	-------	------	-----

متوسطه اول

هفتم	هشتم	نهم
------	------	-----

متوسطه دوم

دهم	یازدهم	دوازدهم
-----	--------	---------