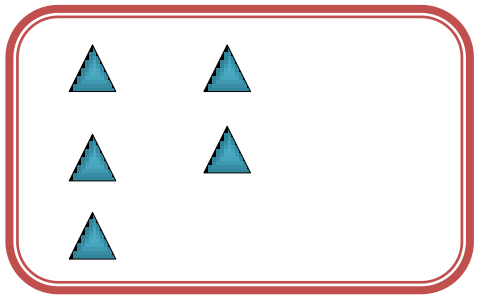

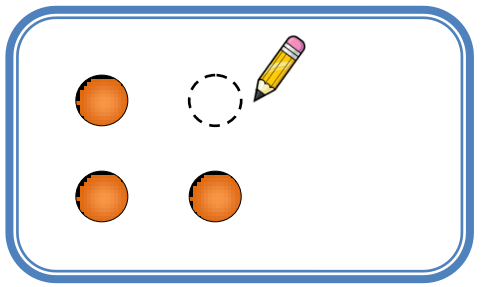



۱۱



نم

در هر قسمت، در سمت راست آن قدر شکل بکش که تعداد آن با دسته ی سمت چپ برابر شود.

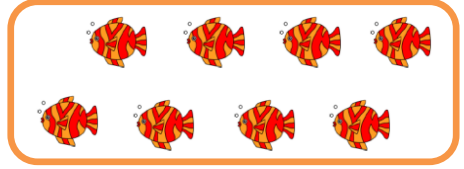


شکل را طوری کامل کن که دو نیمه مثل هم شود.

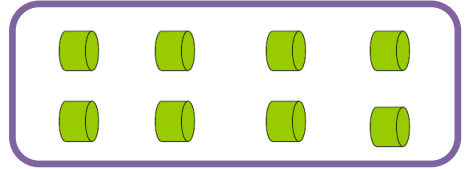
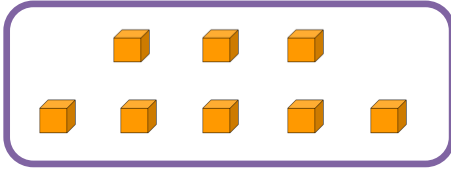
						■										■	
													■	■	■		
	■		■					■	■								
		■															



تعداد هر دسته را نوشته و اگر تعداد شکل های هر دسته برابر است علامت (=) بگذار.



Two empty rectangular boxes for writing the counts of the objects above.




Two empty rectangular boxes for writing the counts of the objects above.

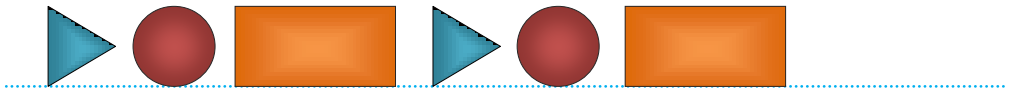
از عدد ۸ تا ۱۰ به ترتیب بنویس .



تعداد هر شکل را با عدد و چوب خط نشان بده.

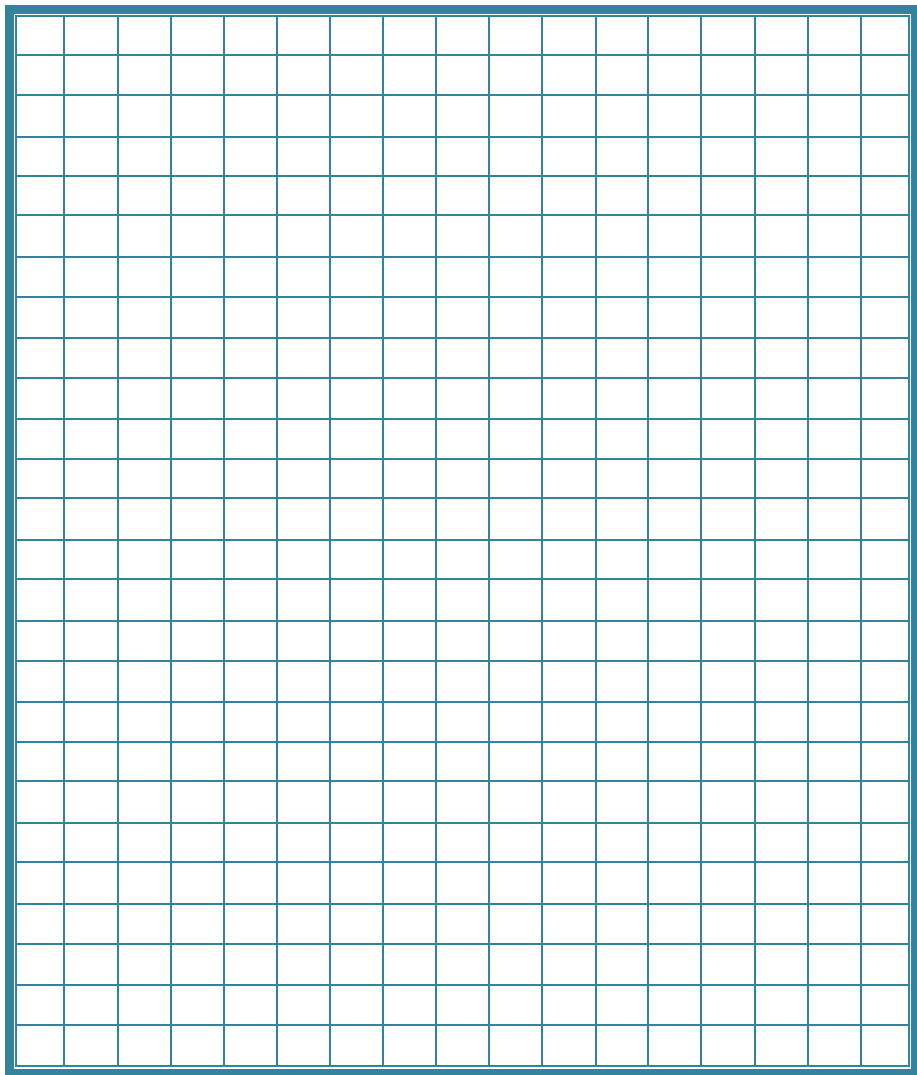


با توجه به نمونه و با استفاده از شابلون الگوی جدیدی رسم کن.











با خط کش شکلی را در قسمت جدول پایین بکش .



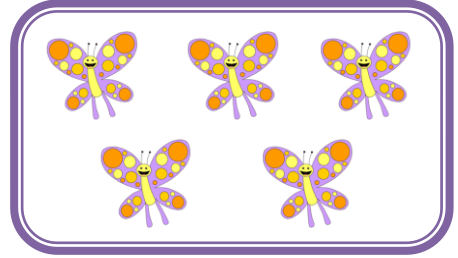
عدد هر دسته را بنویس . شکل های دسته ی کمتر را رنگ کن .





۱۲

تم

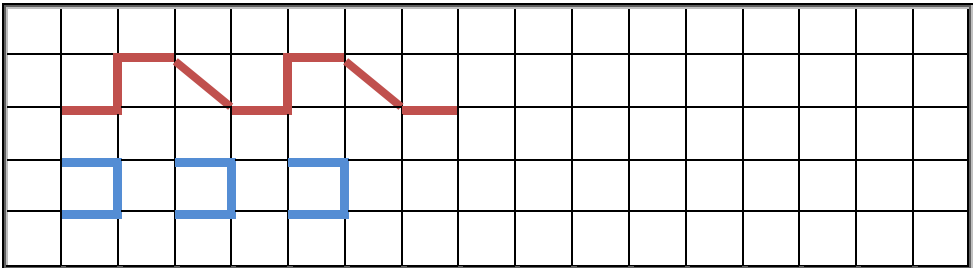
عدد هر دسته را نوشته و از علامت مناسب $=$ استفاده کن.



Blank space for writing the number and the comparison symbol.



Blank space for writing the number and the comparison symbol.






۱۲

۳

۹	۵	۱	۷	۳	۶		۴	۸
۷	۲	۸	۵	۱	۴	۶		۳
۶	۳	۴	۹	۸	۲	۱	۵	
۳	۱	۲		۹	۵	۴	۷	۶
۵	۶	۹	۱		۷	۳	۸	۲
۴	۸	۷	۲	۶		۵	۱	۹
	۴	۵	۶	۷	۹	۸	۳	۱
۱		۶	۳	۵	۸	۹	۲	۴
۸	۹		۴	۲	۱	۷	۶	۵







۱۲

تم

به تعداد عدد های نوشته شده از مربع ها رنگ کن و به تعداد مربع های رنگ شده عدد بنویس .



۵




۶



۹



اندازه ی هویچ چند شکل است .



عدد مربوط به هر دسته را بنویس. انگشتان دست چپ را تا چایی که می شود به دست راست منتقل کن و حاصل را بنویس. سپس جمله ی مربوط به آن را کامل کن.



	+		=	
--	---	--	---	--

۳ و ۳ می شود





	+		=	
--	---	--	---	--

۴ و ۵ می شود

۱۳

تم

عدد مربوط به هر شکل را بنویس و با چوب خط حساب کن و حاصل جمع را بنویس.



در جای های خالی عدد مناسب بنویس.

$$\underline{\quad} + \underline{\quad} = ۴$$

$$\underline{\quad} + \underline{\quad} = ۳$$

$$\underline{\quad} + \underline{\quad} = ۲$$

$$\underline{\quad} + \underline{\quad} = ۵$$



۱۳

تم

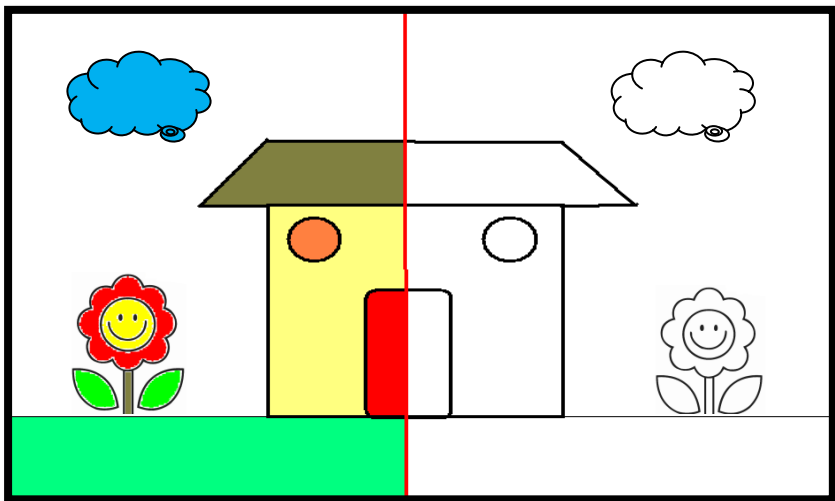
به تعداد عدد سمت چپ از مربع ها قرمز و به تعداد عدد سمت راست از مربع ها زرد
کن. چند تا مربع رنگ شده ؛ حاصل جمع را بنویس .

□ □ □ □ □ □ □ □ □ □ ۳ + ۴ =

□ □ □ □ □ □ □ □ □ □ ۶ + ۳ =

□ □ □ □ □ □ □ □ □ □ ۵ + ۳ =

نیمه ی سمت راست شکل را مانند نیمه ی سمت چپ آن رنگ کن .



۵۱



۸	۵	۷	۴	۳			۲	۹
۳		۱	۹	۵	۲	۴	۷	۸
	۴	۲	۶		۸	۳	۱	۵
۴	۱	۵	۲	۶	۷	۹	۸	۳
۲	۹	۶	۵	۸	۳	۷	۴	۱
۷	۳			۹	۴		۵	۶
۱	۲			۴	۶	۵	۳	۷
۵	۸	۳	۷	۲	۹	۱	۶	۴
۶	۷	۴	۳	۱			۹	۲

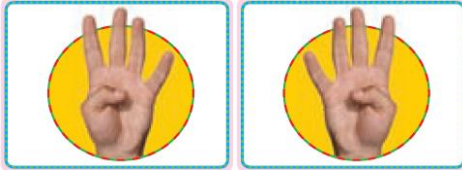
دو عدد پیدا کن که جمع آن‌ها برابر عددی باشد که بالای جدول نوشته شده.

۵	

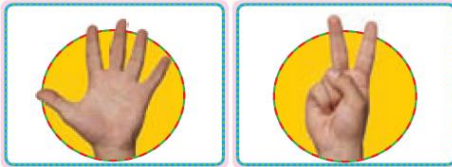
۸	

۱۰	

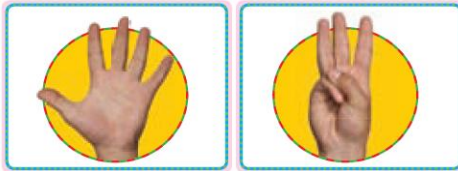
به تعداد انگشتانی که دست راست نشان بدهد از انگشتان دست چپ بپند. حالا چه عددی را نشان می دهد؟ تعریق مربوط به شکل هارابنویس.



$$\square - \square = \square$$



$$\square - \square = \square$$



$$\square - \square = \square$$





مانند نمونه با کشیدن شکل یا رنگ کردن، جمع کن.



$$۲ + ۳ =$$

$$۵ + ۴ =$$



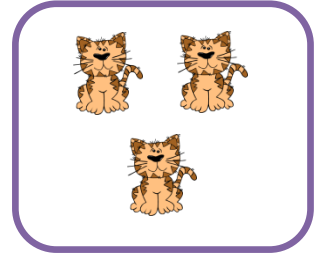

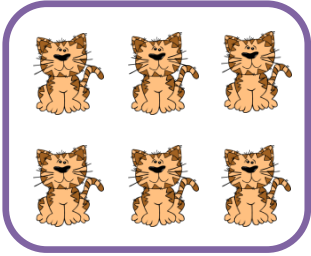
$$۷ + ۳ =$$

مربع های شگفت انگیز پایین را کامل کن.




۴	۳	۵	۲	۱	۶
۱	۶		۴	۳	۵
	۲	۳	۶	۴	۱
۶	۴		۳		۲
۲	۵		۱		۳
	۱	۶	۵	۲	۴

۲	۵		۶	۳	۴
۳	۴	۶	۲	۵	۱
۱	۲				۳
۴	۶		۵	۱	۲
۵	۱	۴	۳	۲	۶
۶			۱	۴	۵

چندتا بودند؟ چند تا رفتند؟ چند تا ماندند؟ حالا یک عبارت تفریق برای شکل ها بنویس.



$$\square - \square = \square$$



$$\square - \square = \square$$


۱۴

نم

جاهای خالی را با عدد مناسب کامل کرده و نمونه ی آخر را خودت رنگ کن.



$$\dots + \dots + \dots = \dots$$



$$\dots + \dots + \dots = \dots$$



$$۱۴ + ۰ + ۱۴ = \dots$$

با توجه به تفریق ها از شکل ها خط بزن و حاصل را بنویس .



$$۸ - ۴ = \dots$$



$$۱۰ - ۳ = \dots$$


در هر قسمت با توجه به عدد کنار آن؛ شکل‌ها را با کشیدن خط دسته بندی کن.



۳

..... دسته ی سه تایی و


یکی



۵

..... دسته ی پنج تایی و

یکی



۸

..... دسته ی هشت تایی و

یکی



۱۵

تم

جاهای خالی را با عدد مناسب کامل کن .



ده تایی	یکی




ده تایی	یکی



ده تایی	یکی

اندازه ی بلندی هر شکل چند آدم است .



جدول های زیر را کامل کن .

۳	۴		۲	۵	۱
۲	۵	۱			۴
	۳	۲	۱	۴	۵
۵	۱	۴		۲	
۱	۲	۵		۶	۳
۴	۶		۵	۱	۲

۶	۲	۳	۴	۱	۵
۵	۴			۳	۶
۱	۵	۲	۶	۴	۳
۴	۳			۵	۲
۳	۶	۴	۵	۲	۱
۲	۱			۶	۴



عدد های مثل هم را با خط کش به هم وصل کرده و هر کدام را یک رنگ بنزن.

A large blue-bordered grid for a matching exercise. The grid contains several Persian numerals: '15' (پنجاه) and '7' (هفت). Some numerals are connected by lines, while others are isolated. There is a central '7' at the top, two '15's in the upper middle, two '7's in the upper right, one '7' on the left, one '7' on the right, one '15' and one '7' in the lower middle, and one '7' at the bottom center.



پیاموز | Biamoz.com

بزرگترین مرجع آموزشی و نمونه سوالات درسی تمامی مقاطع

شامل انواع | نمونه سوالات | فصل به فصل | پایان ترم | جزوه |

ویدئوهای آموزشی | گام به گام | طرح درس | طرح جابر | و ...

اینستاگرام

گروه تلگرام

کانال تلگرام

برای ورود به هر پایه در سایت ما روی اسم آن کلیک کنید

دبستان

اول	دوم	سوم	چهارم	پنجم	ششم
-----	-----	-----	-------	------	-----

متوسطه اول

هفتم	هشتم	نهم
------	------	-----

متوسطه دوم

دهم	یازدهم	دوازدهم
-----	--------	---------