



کاربرگ ریاضی تم ۱۱


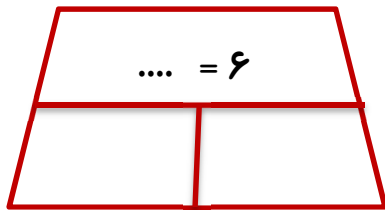
به نام ایزد دانا

نام زیبایت: .....

فرزندم، عدد هر دسته را بنویس.




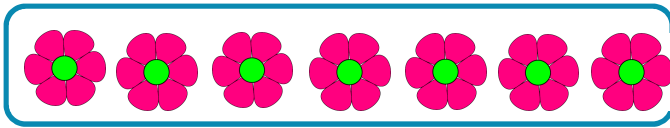

در طرف دیگر علامت مساوی، عدد مناسب بنویس و هر عدد را با چوب خط نشان بده.






۴	۱		۶	۲	۳
۲	۳		۵	۴	
	۶	۴	۲	۱	۵
۵	۲	۱		۶	۴
۱	۵	۲		۳	۶
۶	۴		۱	۵	۲

جدول را کامل کن.

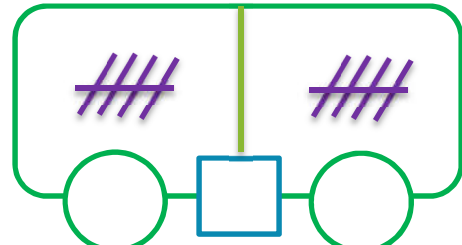
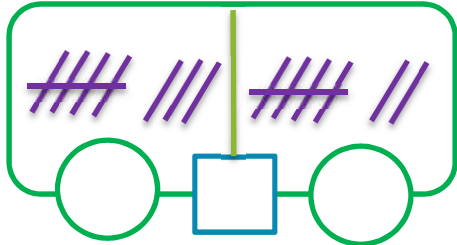
در هر قسمت درست راست آنقدر  بکش که تعداد آنها با دسته ی سمت چپ برابر باشد.



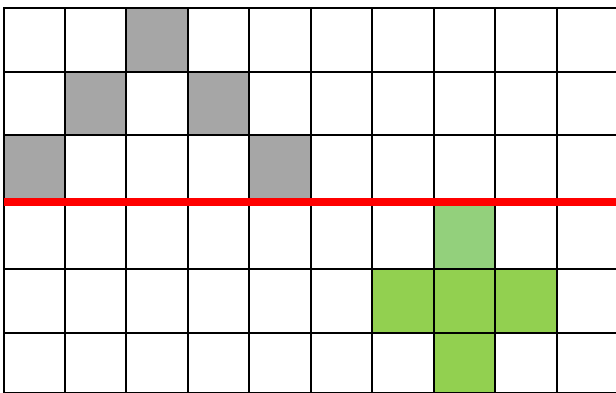
دسته هایی که تعداد آن ها با هم برابر است را رنگ بزن.



عدد هر چوب خط را بنویس و اگر با هم برابر هستند بین آن ها علامت (=) بگذار.



عزیزم نیمه ی هر شکل را بکش.



خلاق و مهربان همیشه این طور بون

# پیاموز | Biamoz.com

بزرگترین مرجع آموزشی و نمونه سوالات درسی تمامی مقاطع

شامل انواع | نمونه سوالات | فصل به فصل | پایان ترم | جزوه |

ویدئوهای آموزشی | گام به گام | طرح درس | طرح جابر | و ...

اینستاگرام

گروه تلگرام

کانال تلگرام

برای ورود به هر پایه در سایت ما روی اسم آن کلیک کنید

## دبستان

اول	دوم	سوم	چهارم	پنجم	ششم
-----	-----	-----	-------	------	-----

## متوسطه اول

هفتم	هشتم	نهم
------	------	-----

## متوسطه دوم

دهم	یازدهم	دوازدهم
-----	--------	---------