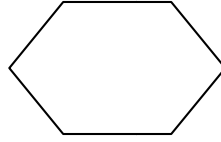



به نام خدا



آزمون ریاضی پایه اول

نام من:

۱ دختر خوب، با کمک خط کش خطی بکش که شکل‌ها را به دو نیمه‌ی مثل هم تقسیم کند.



۲ دخترم، با توجه به عدد هر دسته علامت کمتر-بیشتر را قرار بده.



۳ خوب من، برای عبارت جمع یک نقاشی بکش و جواب را بنویس.

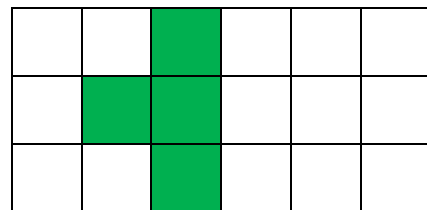
$$4 + 3 = \dots\dots\dots$$

۴ پاسخ تفریق را به دست بیاورید.



$$\dots\dots\dots - \dots\dots\dots = \dots\dots\dots$$

۵ نیمه‌ی سمت راست شکل را مثل نیمه‌ی سمت چپ آن رنگ کن.



"موفق باشید"

پیاموز | Biamoz.com

بزرگترین مرجع آموزشی و نمونه سوالات درسی تمامی مقاطع

شامل انواع | نمونه سوالات | فصل به فصل | پایان ترم | جزوه |

ویدئوهای آموزشی | گام به گام | طرح درس | طرح جابر | و ...

اینستاگرام

گروه تلگرام

کانال تلگرام

برای ورود به هر پایه در سایت ما روی اسم آن کلیک کنید

دبستان

اول	دوم	سوم	چهارم	پنجم	ششم
-----	-----	-----	-------	------	-----

متوسطه اول

هفتم	هشتم	نهم
------	------	-----

متوسطه دوم

دهم	یازدهم	دوازدهم
-----	--------	---------