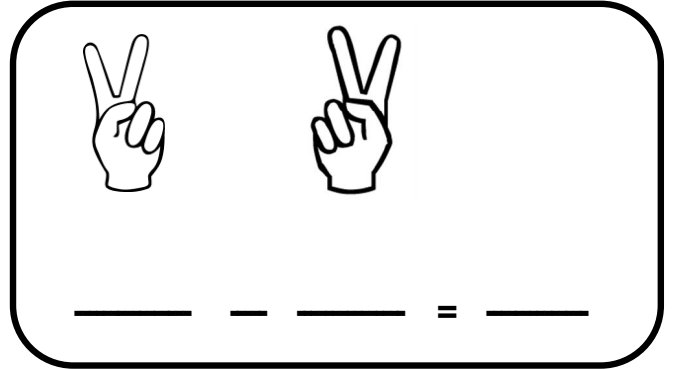



به نام خدا




آزمون عملکردی تفریق و جمع

نام و نام خانوادگی

1 - به تعداد انگشتان دست راست از انگشتان دست چپ ببند و عبارت تفریق را کامل کن .




2 - با توجه به شکل ها یک عبارت تفریق بنویس.

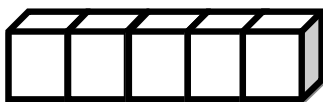


\_\_\_\_\_ = \_\_\_\_\_

3 - با توجه به تفریق داده شده ، از شکل ها خط بزن و حاصل را بنویس .



4 - برای هر عدد از یک رنگ استفاده کن و حاصل جمع را بنویس .



$3 + 3 + 2 = \square$

۵- برای تفریق داده شده شکل بکش ؛ سپس حاصل تفریق را بنویس .

$$5 - 5 = \square$$

$$6 - 4 = \square$$

۶- تفریق کن .

$$5 - 1 = \square$$

$$8 - 0 = \square$$

$$7 - 3 = \square$$

$$2 - 2 = \square$$

$$6 - 5 = \square$$

$$10 - 3 = \square$$

۷- طرف دیگر جمع را بنویس .

۷	
۳	
۰	
۵	
۱	

۸	
۲	
۸	
۶	
۳	

۹	
۸	
۵	
۷	
۳	

۱۰	
۸	
۳	
۹	
۵	

۸- جمع کن .

$$5 + 5 = \square$$

$$1 + 7 = \square$$

$$2 + 4 = \square$$

ضعیف

متوسط

خوب

عالی

بازخورد توصیفی آموزگار :

# پیاموز | Biamoz.com

بزرگترین مرجع آموزشی و نمونه سوالات درسی تمامی مقاطع

شامل انواع | نمونه سوالات | فصل به فصل | پایان ترم | جزوه |

ویدئوهای آموزشی | گام به گام | طرح درس | طرح جابر | و ...

اینستاگرام

گروه تلگرام

کانال تلگرام

برای ورود به هر پایه در سایت ما روی اسم آن کلیک کنید

## دبستان

اول	دوم	سوم	چهارم	پنجم	ششم
-----	-----	-----	-------	------	-----

## متوسطه اول

هفتم	هشتم	نهم
------	------	-----

## متوسطه دوم

دهم	یازدهم	دوازدهم
-----	--------	---------