



ریاضی چوب خط


عزیزم ، در هر قسمت دسته های ده تایی درست کن و در جای خالی عدد مناسب بنویس .




دسته ی ده تایی و
یکی




دسته ی ده تایی و
یکی




دسته ی ده تایی و
یکی




دسته ی ده تایی و
یکی




دسته ی ده تایی و
یکی



دسته ی ده تایی و
یکی



دسته ی ده تایی و
یکی



دسته ی ده تایی و
یکی

پیاموز | Biamoz.com

بزرگترین مرجع آموزشی و نمونه سوالات درسی تمامی مقاطع

شامل انواع | نمونه سوالات | فصل به فصل | پایان ترم | جزوه |

ویدئوهای آموزشی | گام به گام | طرح درس | طرح جابر | و ...

اینستاگرام

گروه تلگرام

کانال تلگرام

برای ورود به هر پایه در سایت ما روی اسم آن کلیک کنید

دبستان

اول	دوم	سوم	چهارم	پنجم	ششم
-----	-----	-----	-------	------	-----

متوسطه اول

هفتم	هشتم	نهم
------	------	-----

متوسطه دوم

دهم	یازدهم	دوازدهم
-----	--------	---------