


نام و نام خانوادگی :

تمرین عدد ۱۰ تا ۱۹

تعداد شکل های هر دسته را با چوب خط بشمار. باشکل ها دسته های ده تایی درست کن ، جدول را کامل کن و عدد مربوط به هر دسته را بنویس .



ده تایی	یکی




ده تایی	یکی



ده تایی	یکی




ده تایی	یکی




ده تایی	یکی




یکه | ده تایی




یکه | ده تایی



یکه | ده تایی



یکه | ده تایی



یکه | ده تایی

# پیاموز | Biamoz.com

بزرگترین مرجع آموزشی و نمونه سوالات درسی تمامی مقاطع

شامل انواع | نمونه سوالات | فصل به فصل | پایان ترم | جزوه |

ویدئوهای آموزشی | گام به گام | طرح درس | طرح جابر | و ...

اینستاگرام

گروه تلگرام

کانال تلگرام

برای ورود به هر پایه در سایت ما روی اسم آن کلیک کنید

## دبستان

اول	دوم	سوم	چهارم	پنجم	ششم
-----	-----	-----	-------	------	-----

## متوسطه اول

هفتم	هشتم	نهم
------	------	-----

## متوسطه دوم

دهم	یازدهم	دوازدهم
-----	--------	---------