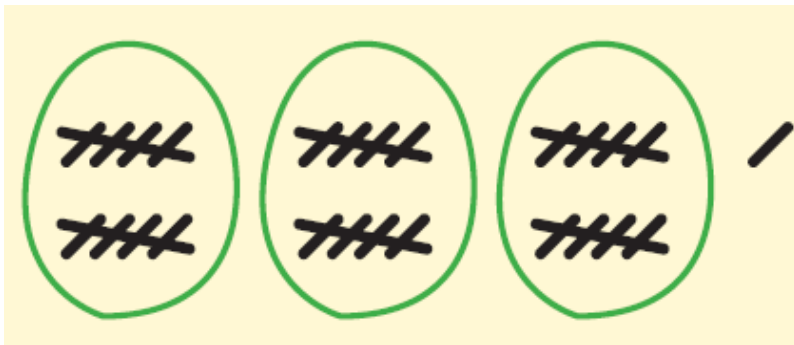


۱- دسته ی ده تایی درست کن و در جدول عدد مناسب بنویس






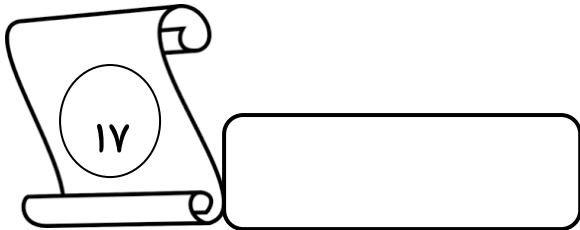
ده تایی	یکی

۲- تعداد دسته ی ده تایی و یکی را بشمار و در جدول قرار ده

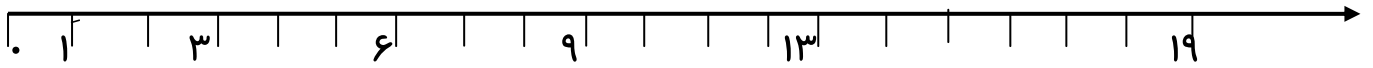


ده تایی	یکی

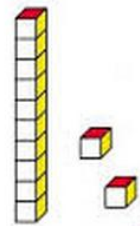
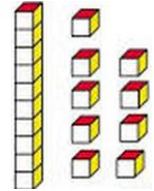
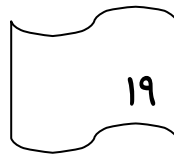
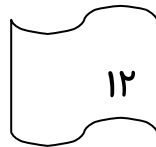
۳- هر عدد را بخوان و برای آن چوب خط بکش و در سمت راست برای چوب خط عدد بنویس



۴ - عددهایی که جا افتاده اند را روی محور بنویس

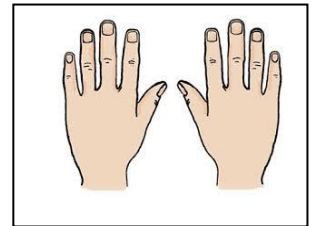


۵ - هر عدد را به شکل مناسب وصل کن

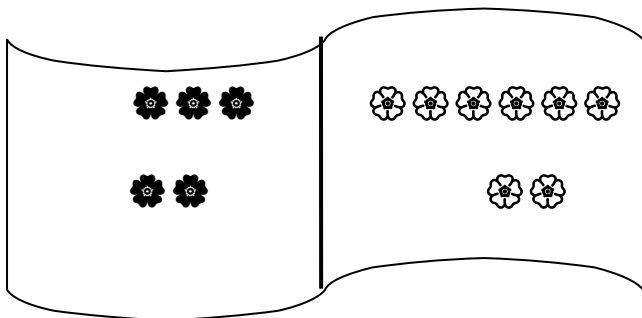


۶ - با توجه به شکل عبارت را کامل کن

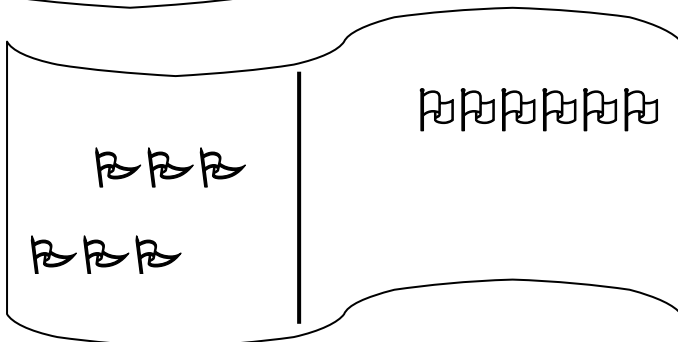
۱ دسته ده تایی و ۰ می شود



۷ - با کمک انگشتان دست حاصل جمع را پیدا کن



$$5 + 8 = \dots\dots\dots$$



$$6 + 6 = \dots\dots\dots$$

خسته نباشی

پیاموز | Biamoz.com

بزرگترین مرجع آموزشی و نمونه سوالات درسی تمامی مقاطع

شامل انواع | نمونه سوالات | فصل به فصل | پایان ترم | جزوه |

ویدئوهای آموزشی | گام به گام | طرح درس | طرح جابر | و ...

اینستاگرام

گروه تلگرام

کانال تلگرام

برای ورود به هر پایه در سایت ما روی اسم آن کلیک کنید

دبستان

اول	دوم	سوم	چهارم	پنجم	ششم
-----	-----	-----	-------	------	-----

متوسطه اول

هفتم	هشتم	نهم
------	------	-----

متوسطه دوم

دهم	یازدهم	دوازدهم
-----	--------	---------