


به نام خدای مهربان


نام و نام خانوادگی: ۳

۱ دختر خوب، به اندازه ی عددنوشته شده چوب خط بکش.

۱۸



۱۴



۲ بلندی مداد بین ..... تا ..... است .

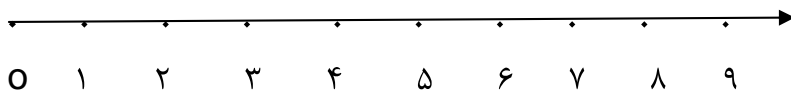


۳ باچوب خط ها دسته ی ده تایی درست کن و جدول را کامل کن و عدد مربوط به هر دسته را بنویس.

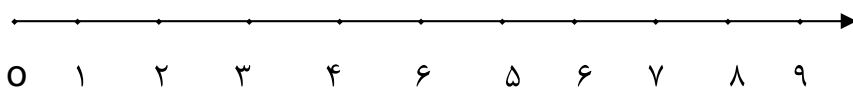
ده تایی	یکی
.....	.....

//      ###  
          ###

۴ باکمک محور جمع یا تفریق کن .

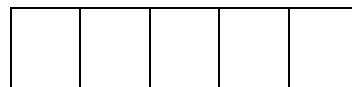

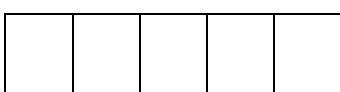


$6+2 = \dots\dots\dots$



$7+2 = \dots\dots\dots$

۵ باتوجه به جمع نوشته شده مربع ها را با رنگ های مختلف رنگ کن و حاصل را بنویس.



$2+5+3+4 = \dots\dots\dots$

انتظارات

ن	ق	خ	خ
ت	ق	ق	خ

فراگیر عدد را با چوب خط به درستی نمایش می دهد.

فراگیر عدد را درست در جدول ارزش مکانی قرار می دهد.

فراگیر مفهوم بین را در اندازه گیری به خوبی درک کرده است.

فراگیر جمع و تفریق را به خوبی روی محور اعداد نشان می دهد.

فراگیر جمع چند جمله ای را بر روی چینه به درستی انجام می دهد و پاسخ درست می نویسد .

# پیاموز | Biamoz.com

بزرگترین مرجع آموزشی و نمونه سوالات درسی تمامی مقاطع

شامل انواع | نمونه سوالات | فصل به فصل | پایان ترم | جزوه |

ویدئوهای آموزشی | گام به گام | طرح درس | طرح جابر | و ...

اینستاگرام

گروه تلگرام

کانال تلگرام

برای ورود به هر پایه در سایت ما روی اسم آن کلیک کنید

## دبستان

اول	دوم	سوم	چهارم	پنجم	ششم
-----	-----	-----	-------	------	-----

## متوسطه اول

هفتم	هشتم	نهم
------	------	-----

## متوسطه دوم

دهم	یازدهم	دوازدهم
-----	--------	---------