

به نام خدا

آزمون ریاضی تا پایان تم 17


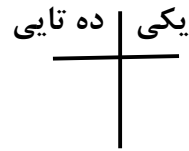
نام و نام خانوادگی

1- جدول را کامل کن. (آزمون و خطا)

5	2	3	6	4	
6	4	1	3	5	
	3	5	2	1	6
	6	2	4	3	5
2	5			6	3
3	1			2	4



2- شکل را با چوب خط بشمار و عدد آن را در جدول و روی خط بنویس.



3- جمع کن. (به ذهن سپردن 5)

$$6 + 7 = \square$$

$$7 + 8 = \square$$

$$9 + 5 = \square$$





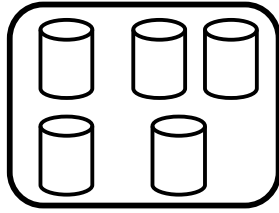

$$7 + 7 = \square$$

4- با توجه به جمع داده شده، چینه ها را با رنگ های مختلف رنگ کن؛ و جواب جمع را بنویس.

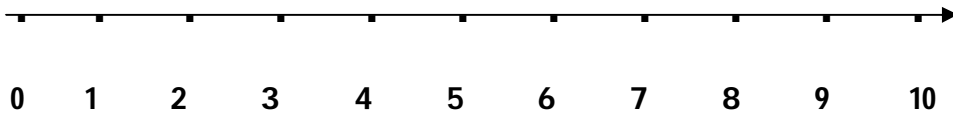


$$4 + 5 + 4 = \underline{\quad}$$

5- عدد هر دسته را بنویس و علامت < = > بگذار .



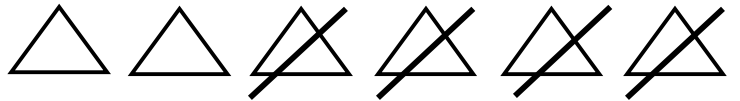
6- با کمک محور تفريق كن .



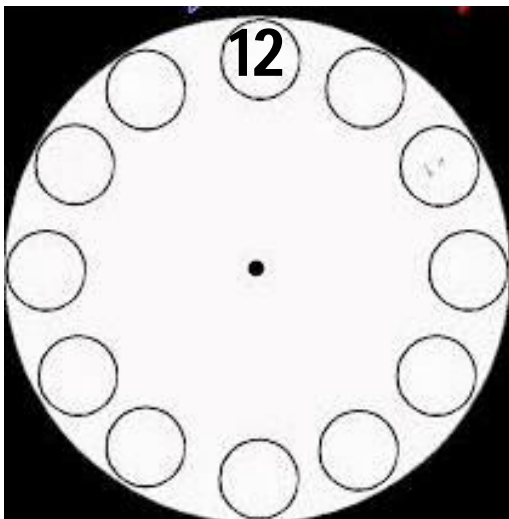
$9 - 5 = \square$

7- برای شکل تفريق بنویس .

\_\_\_\_\_ - \_\_\_\_\_ = \_\_\_\_\_



8- عدد های ساعت را بنویس .



ضعیف

متوسط

خوب

عالی

# پیاموز | Biamoz.com

بزرگترین مرجع آموزشی و نمونه سوالات درسی تمامی مقاطع

شامل انواع | نمونه سوالات | فصل به فصل | پایان ترم | جزوه |

ویدئوهای آموزشی | گام به گام | طرح درس | طرح جابر | و ...

اینستاگرام

گروه تلگرام

کانال تلگرام

برای ورود به هر پایه در سایت ما روی اسم آن کلیک کنید

## دبستان

اول	دوم	سوم	چهارم	پنجم	ششم
-----	-----	-----	-------	------	-----

## متوسطه اول

هفتم	هشتم	نهم
------	------	-----

## متوسطه دوم

دهم	یازدهم	دوازدهم
-----	--------	---------