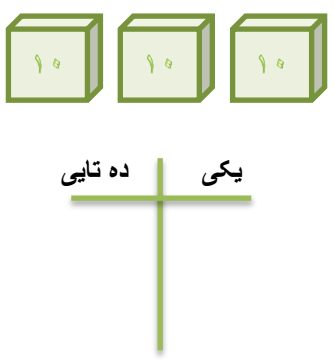
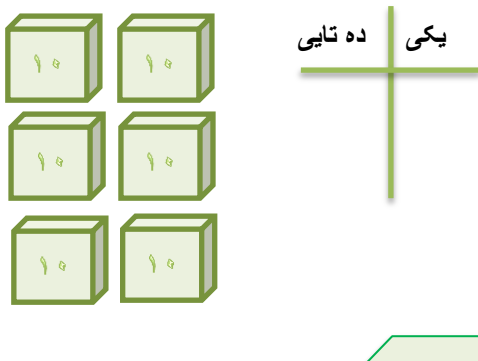

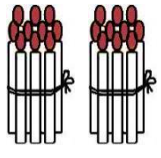
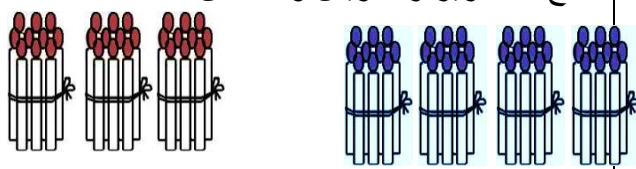
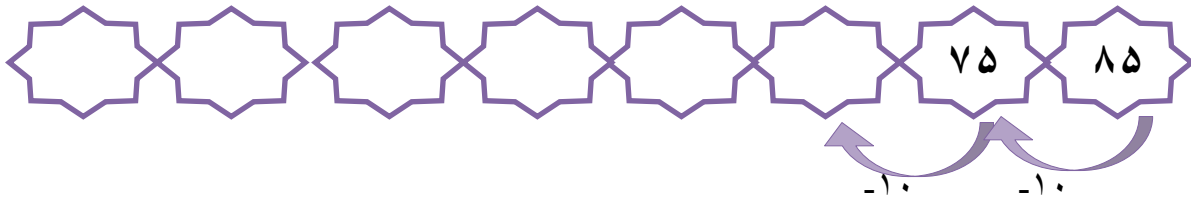


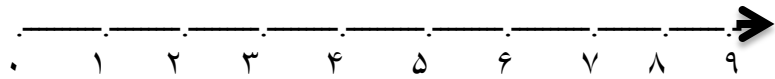
آزمون ریاضی (تم ۱۹)

نام و نام خانوادگی :

سال تحصیلی

<p>جدول ها را کامل کن و عدد آن را بنویس.</p>  <p>_____</p>	<p>جدول ها را کامل کن و عدد آن را بنویس.</p>  <p>_____</p>
<p>مانند نمونه ۱۰ تا ۱۰ تا اضافه کن و بنویس.</p>  <p>+۱۰ +۱۰</p>	
<p>جمع های زیر را بنویس و حل کن.</p>  <p>_____ + _____ = _____</p>	<p>جمع های زیر را بنویس و حل کن.</p>  <p>_____ + _____ = _____</p>
<p>مانند نمونه ۱۰ تا ۱۰ کم کن و بنویس.</p>  <p>-۱۰ -۱۰</p>	
<p>۵۰ + ۱۰ = <input type="text"/></p> <p>۴۰ - ۱۰ = <input type="text"/></p> <p>۴۰ + ۴۰ = <input type="text"/></p>	<p>جمع و تفریق های زیر را حل کن.</p> <p>۲۰ + ۶۰ = <input type="text"/></p> <p>۵۰ - ۳۰ = <input type="text"/></p>

۶ برای مسئله زیر شکل بکش و روی محور نشان بده . سپس جواب را بدست بیاور .
 - مادر سارا ۵ کتاب به او داد . خواهرش هم ۳ کتاب دیگر به او داد . سارا چند کتاب دارد ؟



۷ با توجه به علامت < > عددها را در جای مناسب بنویس .

۸۱ ۱۸

..... <

۶۸ ۷۰

..... >

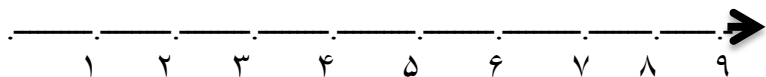
۴۶ ۴۵

..... >

۸ برای تفریق زیر یک مسئله بساز و بنویس . برایش شکل بکش و روی محور نشان بده .

$7 - 5 = \dots\dots$

.....



۹ جدول سودوکوی زیر را حل کن .

۶	۲	۹	۸	۳	۷	۱	۴	۵
۷	۸	۱	۴	۹	۵	۳	۲	۶
۴	۳			۶			۹	۷
۵				۴			۸	۱
	۴	۶	۳	۱	۸	۷	۵	۲
۸	۱			۵		۶	۳	
۲	۹			۸				۳
۱	۶	۸	۵	۲	۳	۴	۷	۹
۳	۵	۴	۹	۷	۶	۲	۱	۸

نظر آموزگار:

پیاموز | Biamoz.com

بزرگترین مرجع آموزشی و نمونه سوالات درسی تمامی مقاطع

شامل انواع | نمونه سوالات | فصل به فصل | پایان ترم | جزوه |

ویدئوهای آموزشی | گام به گام | طرح درس | طرح جابر | و ...

اینستاگرام

گروه تلگرام

کانال تلگرام

برای ورود به هر پایه در سایت ما روی اسم آن کلیک کنید

دبستان

اول	دوم	سوم	چهارم	پنجم	ششم
-----	-----	-----	-------	------	-----

متوسطه اول

هفتم	هشتم	نهم
------	------	-----

متوسطه دوم

دهم	یازدهم	دوازدهم
-----	--------	---------