

نام زیبای من: .....

تاریخ: .....

۱- عدد های زیر را ادامه بده.

.....

.....

.....

.....

.....

.....

.....

.....

۲- جاهای خالی را با به طور مناسب کامل کن.

	۳ ده تایی و ۰ یکی می شود	ده تایی	یکی	با عدد: .....
		---	---	با حروف: .....

	۴ ده تایی و ۰ یکی می شود	ده تایی	یکی	با عدد: .....
		---	---	با حروف: .....

	۲ ده تایی و ۰ یکی می شود	ده تایی	یکی	با عدد: .....
		---	---	با حروف: .....

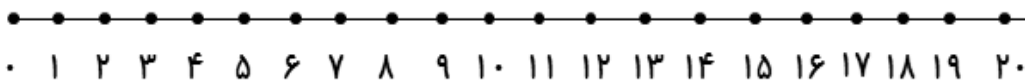
۳- جواب جمع و تفریق های زیر را به دست بیاور.

$50 + 10 = \dots$	$50 + 40 = \dots$	$20 + 60 = \dots$	$70 - 10 = \dots$	$80 - 50 = \dots$
-------------------	-------------------	-------------------	-------------------	-------------------

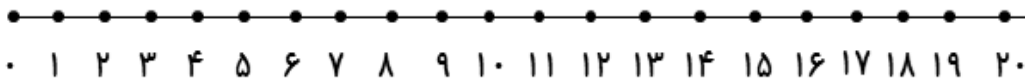
۴- برای مسئله شکل بکش و جواب آن را به دست بیاور.

۸ گنجشک روی درخت نشسته بود ۶ گنجشک دیگر پیش آن ها آمدند. چند گنجشک روی درخت هستند؟

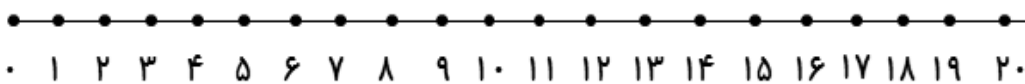
۵- جمع و تفریق های زیر را روی محور نشان بده، سپس جواب آن ها را بنویس.



$$10 + 5 + 5 = \text{-----}$$

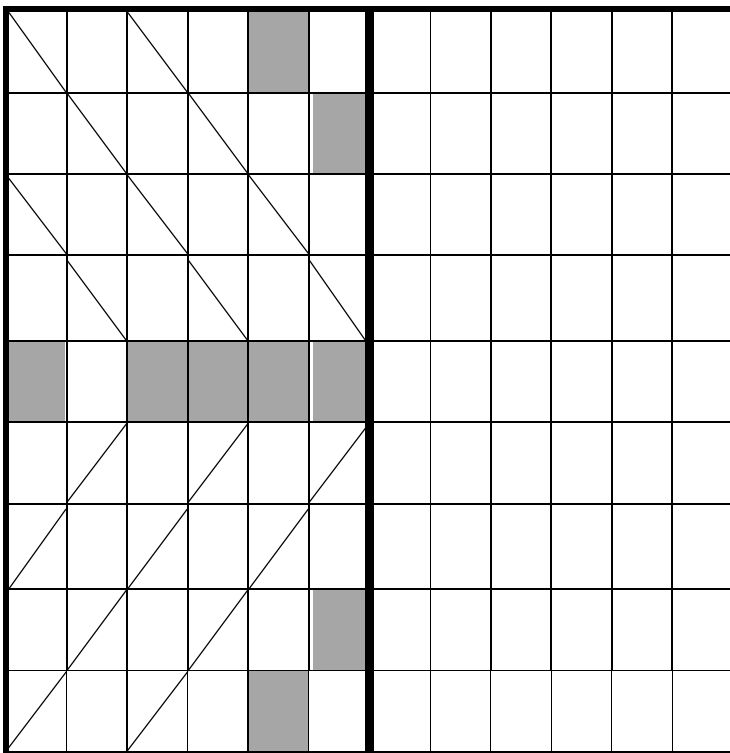


$$5 + 5 + 5 = \text{-----}$$



$$20 - 10 = \text{-----}$$

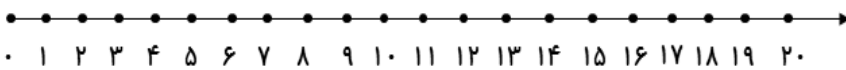
۶- ابتدا مربع های شگفت انگیز را کامل کن. سپس جدول سمت چپ را طوری کامل کن که دو طرف آن مثل هم باشد.



	۳	۵	۸	۴	۶	۲	۱	
۹	۸	۴	۳		۱	۵	۷	۶
۲	۶	۱	۷		۹	۳	۴	۸
۱	۷	۲		۳		۸	۶	۵
۴			۱	۸	۵			۲
۸	۵	۳		۷		۱	۹	۴
۳	۴	۷	۲		۸	۹	۵	۱
۵	۲	۹	۴		۳	۶	۸	۷
	۱	۸	۵	۹	۷	۴	۲	

۷- جواب مسئله را با کمک محور به دست بیاور.

۱۲ شمع روشن بود. ۵ شمع خاموش شد. چند شمع روشن مانده است؟



باز خورد آموزگار



خود سنجی



# پیاموز | Biamoz.com

بزرگترین مرجع آموزشی و نمونه سوالات درسی تمامی مقاطع

شامل انواع | نمونه سوالات | فصل به فصل | پایان ترم | جزوه |

ویدئوهای آموزشی | گام به گام | طرح درس | طرح جابر | و ...

اینستاگرام

گروه تلگرام

کانال تلگرام

برای ورود به هر پایه در سایت ما روی اسم آن کلیک کنید

## دبستان

اول	دوم	سوم	چهارم	پنجم	ششم
-----	-----	-----	-------	------	-----

## متوسطه اول

هفتم	هشتم	نهم
------	------	-----

## متوسطه دوم

دهم	یازدهم	دوازدهم
-----	--------	---------