

به نام خدا

آزمون ریاضی پایه اول تم اول و دوم

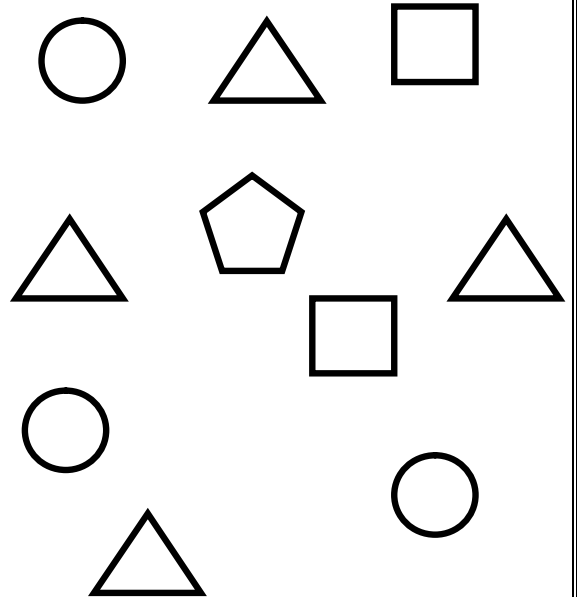
نام و نام خانوادگی



۱ - ماشین سمت چپ را آبی و ماشین سمت راست را قرمز کن .

۲ - به تعداد شکل ها ، خانه ی مقابل آن را رنگ کن .

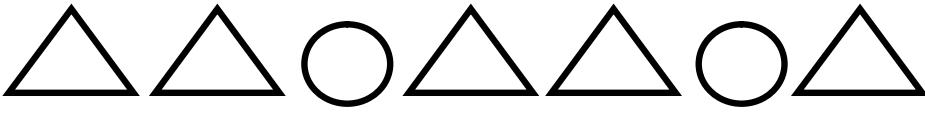
| | | | | |
|---|--|--|--|--|
| ○ | | | | |
| □ | | | | |
| ⬠ | | | | |
| △ | | | | |





۳ - به تعداد شکل های در سمت چپ از شکل های سمت راست را رنگ کن .

| | |
|---------|-----------|
| | |
| □ □ □ □ | ○ ○ ○ ○ ○ |

۴- دو شکل بعدی الگوها را بکش .



۵- یک عدد به هر دسته اضافه کن و در جای خالی شکل بکش .



۶- جدول ها را با شکل مناسب کامل کن .

| | | |
|---|---|---|
| ○ | △ | □ |
| □ | ○ | |
| △ | | |

| | | |
|---|---|---|
| △ | ○ | □ |
| | △ | ○ |
| | □ | |

بازخورد آموزگار :

پیاموز | Biamoz.com

بزرگترین مرجع آموزشی و نمونه سوالات درسی تمامی مقاطع

شامل انواع | نمونه سوالات | فصل به فصل | پایان ترم | جزوه |

ویدئوهای آموزشی | گام به گام | طرح درس | طرح جابر | و ...

اینستاگرام

گروه تلگرام

کانال تلگرام

برای ورود به هر پایه در سایت ما روی اسم آن کلیک کنید

دبستان

| | | | | | |
|-----|-----|-----|-------|------|-----|
| اول | دوم | سوم | چهارم | پنجم | ششم |
|-----|-----|-----|-------|------|-----|

متوسطه اول

| | | |
|------|------|-----|
| هفتم | هشتم | نهم |
|------|------|-----|

متوسطه دوم

| | | |
|-----|--------|---------|
| دهم | یازدهم | دوازدهم |
|-----|--------|---------|