
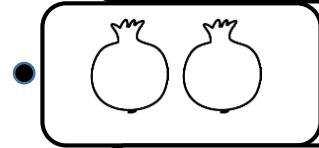
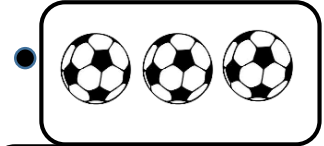



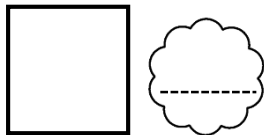
۱- فرزندانم با خط کش هر دسته را به تعداد انگشتان مناسب وصل کن.



۲- الگوی زیر را یک بار تکرار کن. (دو شکل بعد الگو را بکش)



۳- هر شکل چند گوشه دارد؟ بنویس.




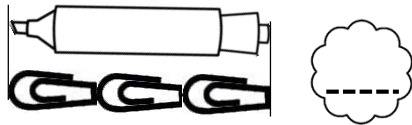
۴- به تعداد هر شکل از خانه های مقابل آن رنگ کن.

۲	۱	۴	۳
۳			۲
۱			۴
۴	۳	۲	۱


۵- الگوی شطرنجی زیر را ادامه بده.



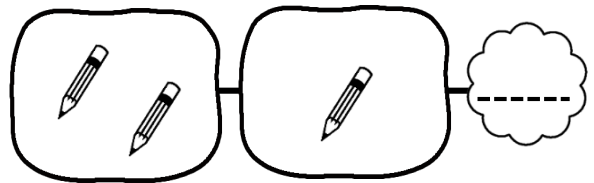
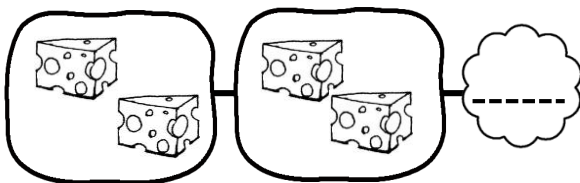
۶- اندازه ی هر شکل چندتا گیره است؟



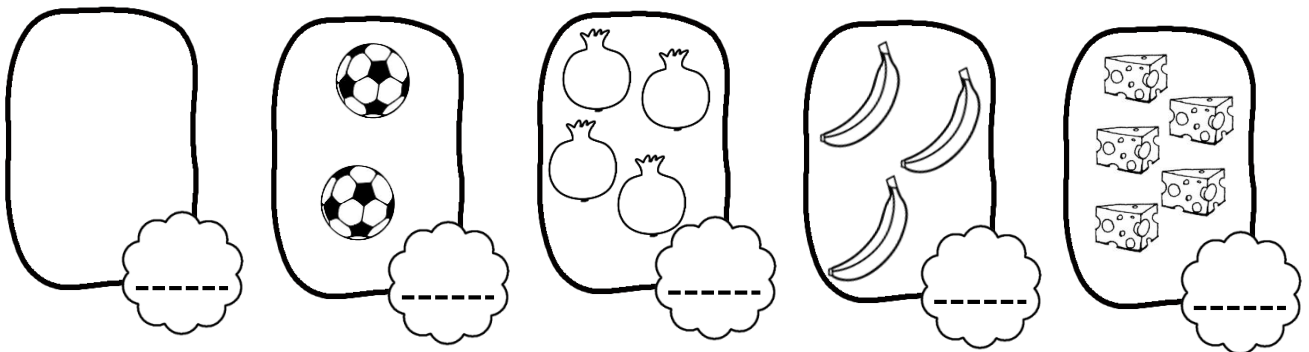
۷- از کدام شکل ۳ تا رو میز وجود دارد؟ آن ها را رنگ کن.



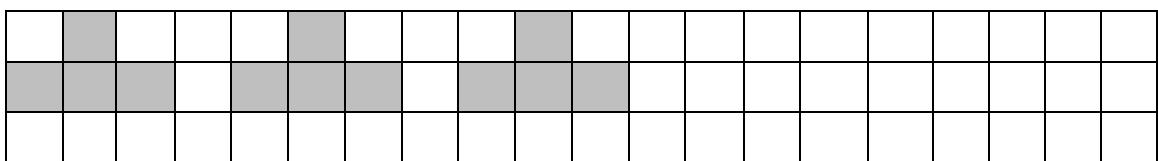
۸- شکل های سمت راست و سمت چپ با هم چند تا می شوند؟ عدد آن را بنویس.



۹- عدد مربوط به هر دسته را بنویس.



۱۰- الگوی شطرنجی زیر را ادامه بده.



# پیاموز | Biamoz.com

بزرگترین مرجع آموزشی و نمونه سوالات درسی تمامی مقاطع

شامل انواع | نمونه سوالات | فصل به فصل | پایان ترم | جزوه |

ویدئوهای آموزشی | گام به گام | طرح درس | طرح جابر | و ...

اینستاگرام

گروه تلگرام

کانال تلگرام

برای ورود به هر پایه در سایت ما روی اسم آن کلیک کنید

## دبستان

اول	دوم	سوم	چهارم	پنجم	ششم
-----	-----	-----	-------	------	-----

## متوسطه اول

هفتم	هشتم	نهم
------	------	-----

## متوسطه دوم

دهم	یازدهم	دوازدهم
-----	--------	---------