



۱- برای جمع روبرو چوب خط بکش و جواب را بنویس . برای کشیدن چوب خط از دو مداد رنگی استفاده کن

$6 + 7 = \dots\dots\dots$

۲- کدام شکل خط تقارن زیادی دارد ؟ علامت بزن .



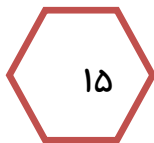
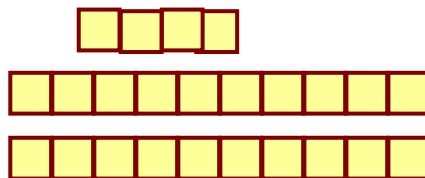

۳- گل ها چند تا هستند با چوب خط و عدد نمایش بده .



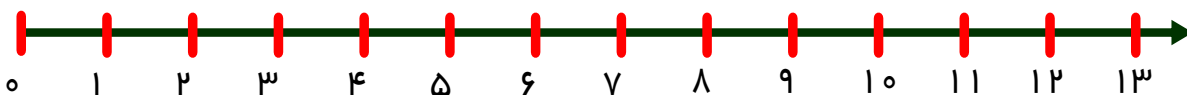
→ →



۴ - هر شکل را به عددش وصل کن .



۵- سه تا سه تا شمردن را روی محور اعداد نمایش بده .



۶ - عددی بنویس که یکی و ده تایی آن مثل هم باشد

۷ - حاصل جمع و تفریق هارا پیدا کن



$$۵ + ۵ + ۱۰ = \dots\dots$$



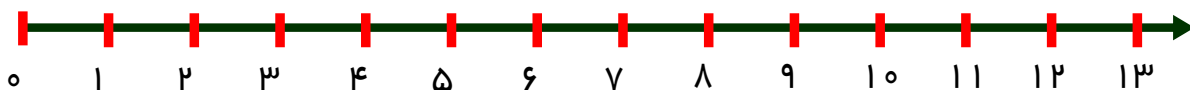
$$۴۰ + ۳۰ = \dots\dots$$



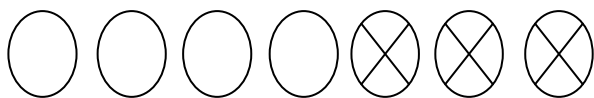
$$۲۰ - ۵ = \dots\dots$$

$$۳ + ۷ = \dots\dots$$

۸ - جمع و تفریق را روی محور نشان بده .



$$۱۲ - ۷ = \dots\dots$$



۹ - برای شکل روبه رو تفریق بنویس

$$\dots\dots - \dots\dots = \dots\dots$$



خسته نباشید گل های زیبا

پیاموز | Biamoz.com

بزرگترین مرجع آموزشی و نمونه سوالات درسی تمامی مقاطع

شامل انواع | نمونه سوالات | فصل به فصل | پایان ترم | جزوه |

ویدئوهای آموزشی | گام به گام | طرح درس | طرح جابر | و ...

اینستاگرام

گروه تلگرام

کانال تلگرام

برای ورود به هر پایه در سایت ما روی اسم آن کلیک کنید

دبستان

اول	دوم	سوم	چهارم	پنجم	ششم
-----	-----	-----	-------	------	-----

متوسطه اول

هفتم	هشتم	نهم
------	------	-----

متوسطه دوم

دهم	یازدهم	دوازدهم
-----	--------	---------