


نام زیبای من:

تاریخ:

۱- عدد های زیر را ادامه بده.

۲۰ - ۲۵ - ۳۰



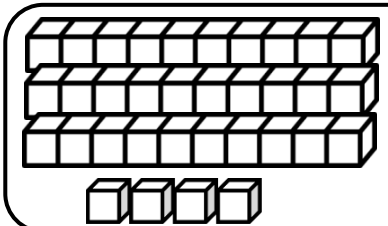
۱۶ - ۲۶ - ۳۶



۵۲ - ۵۳ - ۵۴

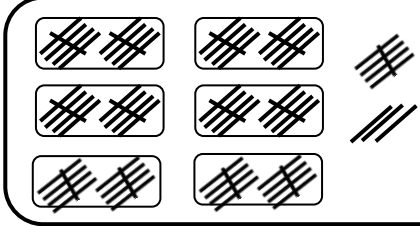
۷۴ - ۷۵ - ۷۶

۲- جاهای خالی را با به طور مناسب کامل کن.



--- ده تایی و ---
یکی می شود ---

ده تایی	یکی	با عدد: -----
---	---	با حروف: -----



۶ ده تایی و ۸ یکی
می شود -----

ده تایی	یکی	با عدد: -----
---	---	با حروف: -----

۳- جواب جمع و تفریق های زیر را به دست بیاور.

$20 + 5 = \text{---}$

$10 + 40 + 5 = \text{---}$

$70 - 40 = \text{---}$

$50 - 50 = \text{---}$

$10 + 10 + 10 = \text{---}$


$80 - 10 = \text{---}$

$10 + 10 + 10 + 5 = \text{---}$

$90 - 20 = \text{---}$

$10 + 10 + 10 + 5 + 5 + 5 + 5 = \text{---}$

$60 - 5 = \text{---}$

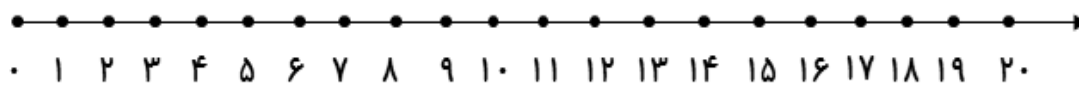


۴- برای هر مسئله شکل بکش و جواب آن را به دست بیاور.

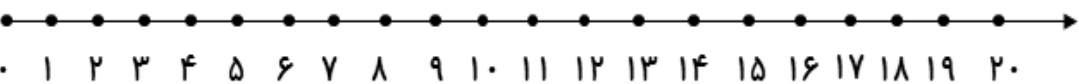
۵- بسته ی ده تایی بستنی در یخچال بود. ۷ بستنی دیگر در یخچال قرار دادیم. حالا چند بستنی در یخچال است؟

زاله ۴ بسته ی ده تایی مداد داشت. مادرش ۲ بسته ی ده تایی دیگر به او داد. حالا زاله چند مداد دارد؟

۵- جمع و تفریق های زیر را روی محور نشان بده، سپس جواب آن ها را بنویس.




$$5 + 5 + 5 = \text{-----}$$



$$15 - 9 = \text{-----}$$

۶- ابتدا مربع های شگفت انگیز را کامل کن. سپس جدول سمت چپ را طوری کامل کن که دو طرف آن مثل هم باشد.



۳	۶	۷	۲	۱	۵
۲	۴	۵	۳	۱	۷
۹	۷	۱	۶	۵	۸
۷	۹	۲	۴	۶	۵
	۶			۴	
۵	۳	۴	۹	۷	۸
۶	۵	۷	۱	۲	۹
۴	۲	۹	۸	۳	۱
۱	۸		۵	۴	۹

باز خورد آموزگار



خود سنجی



پیاموز | Biamoz.com

بزرگترین مرجع آموزشی و نمونه سوالات درسی تمامی مقاطع

شامل انواع | نمونه سوالات | فصل به فصل | پایان ترم | جزوه |

ویدئوهای آموزشی | گام به گام | طرح درس | طرح جابر | و ...

اینستاگرام

گروه تلگرام

کانال تلگرام

برای ورود به هر پایه در سایت ما روی اسم آن کلیک کنید

دبستان

اول	دوم	سوم	چهارم	پنجم	ششم
-----	-----	-----	-------	------	-----

متوسطه اول

هفتم	هشتم	نهم
------	------	-----

متوسطه دوم

دهم	یازدهم	دوازدهم
-----	--------	---------