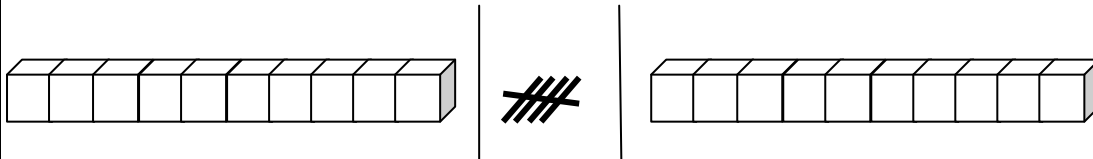
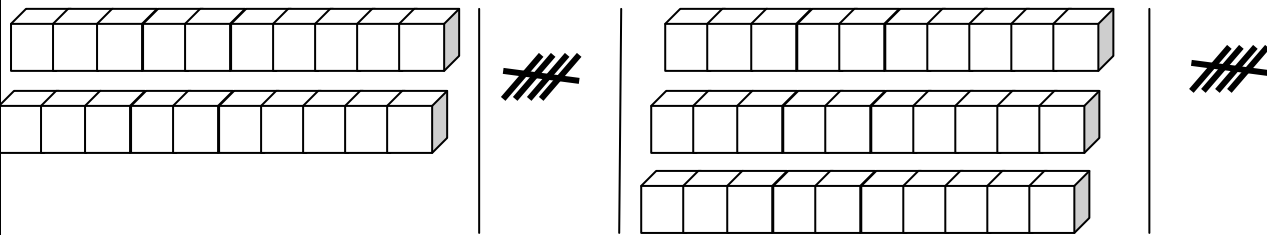


۱ - با کمک شکل، عبارت های جمع را نوشته و حاصل آن را به دست بیاور.



..... + =



..... + + =

۲ - با کشیدن چوب خط، جمع ها را انجام بده.

۶ + ۹ =

۱۰ + ۱۳ + ۶ =

۹ + ۱ + ۱۴ =

۳ - با رسم چوب خط مسئله را جواب بده.



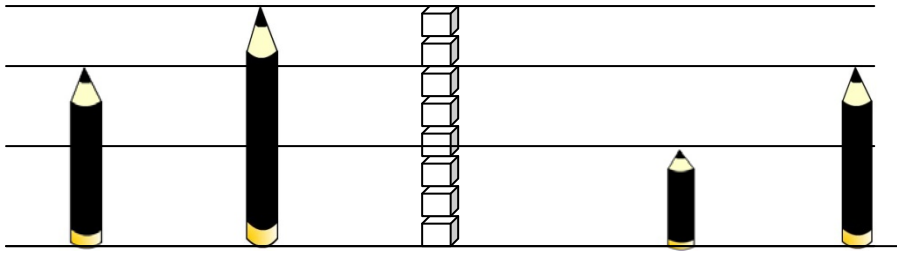
۱ پرنده در آسمان پرواز می کردند.

۲ پرنده ی دیگر به آن ها اضافه شد.

بعد از مدتی ۴ پرنده ی دیگر هم آمدند.

..... پرنده در آسمان هستند.

چند پرنده در آسمان هستند؟



۱

۲

۳

۴

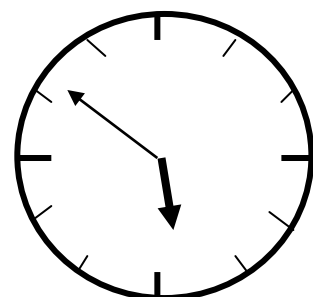
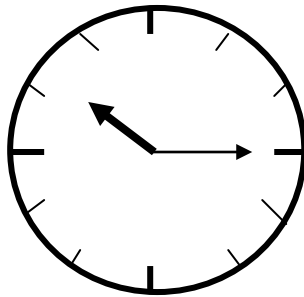
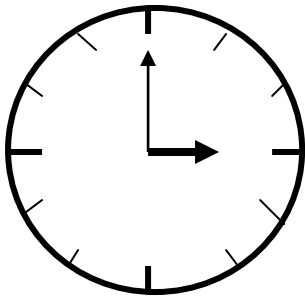
اندازه ی مداد شماره ی ۱ برابر با است . اندازه ی مداد شماره ی ۲ برابر با است .

اندازه ی مداد شماره ی ۳ بین تا است . اندازه ی مداد شماره ی ۴ برابر با است .

مداد شماره ی ۱ کو تاه تر از مداد شماره ی است . مداد شماره ی کو تاه ترین مداد است .

مداد شماره ی با مداد شماره ی هم اندازه است . مداد شماره ی بلند ترین مداد است .

۵- زمانی که هر ساعت نشان می دهد را بنویس.



ساعت است.

زمان، بین ساعت و است .

زمان، بین ساعت و است.

شماره سوال	انتظارات	خیلی خوب	خوب	قابل قبول	نیاز به تمرین
۱	انجام جمع مضارب ۵ و ۱۰ با کمک شکل				
۲	انجام جمع با کمک چوب خط				
۳	نشان دادن جواب مسئله با کمک چوب خط				
۴	تشخیص اندازه ی مدادها با مقیاس چینه				
۴	مقایسه ی اندازه ی مدادها نسبت به یکدیگر				
۵	تشخیص محل قرار گرفتن عقربه ی ساعت شمار در ساعت				

پیاموز | Biamoz.com

بزرگترین مرجع آموزشی و نمونه سوالات درسی تمامی مقاطع

شامل انواع | نمونه سوالات | فصل به فصل | پایان ترم | جزوه |

ویدئوهای آموزشی | گام به گام | طرح درس | طرح جابر | و ...

اینستاگرام

گروه تلگرام

کانال تلگرام

برای ورود به هر پایه در سایت ما روی اسم آن کلیک کنید

دبستان

اول	دوم	سوم	چهارم	پنجم	ششم
-----	-----	-----	-------	------	-----

متوسطه اول

هفتم	هشتم	نهم
------	------	-----

متوسطه دوم

دهم	یازدهم	دوازدهم
-----	--------	---------