

۲۱

تم

در اعداد زیر دور ده تایی ها خط بکش .

۴۴

۶۹

۵۸

۱۲

۵۴

۲۶

از عدد ۶۷ شروع کن و تا عدد ۷۵ بنویس .

از عدد ۸۳ شروع کن و تا عدد ۹۱ بنویس .

به هر عدد ۵ تا اضافه کن و پیاپی به چه عددی می رسی .

$$۴۶ \xrightarrow{+۵}$$

$$۶۳ \xrightarrow{+۵}$$

$$۵۱ \xrightarrow{+۵}$$

$$۳۷ \xrightarrow{+۵}$$



با توجه به مربع های رنگ شده یا چوب خط ها جمع ها را بنویس و حاصل را پیدا کن.



$$\text{---} + \text{---} + \text{---} = \text{---}$$



$$\text{---} + \text{---} = \text{---}$$

مرحله به مرحله جمع کن و ببین حاصل چه عددی می شود.



به عدد و حروف بنویس.

۱۰			۸	۵			۴		۱
	صفر	نه			شش	سه		دو	



با چوب خط جمع بنزن.

$$۶ + ۵ + ۸ = \square$$

$$۳ + ۹ + ۴ = \square$$

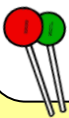
مسئله را با رسم چوب خط حل کن.



۷ گربه در کوچه بودند. ۶ گربه ی دیگر به آن ها

اضافه شدند. ۳ گربه ی دیگر هم آمدند.

چند گربه در کوچه است؟



۵ آب نبات در لیوان بود. زهرا ۸ آب نبات دیگر

به آن ها اضافه کرد. مینا هم ۴ آب نبات دیگر

آورد؛ حالا چند آب نبات در لیوان است؟

عدد ها و شکل ها را با توجه به الگو ادامه بده .

۴ ۶ ۸



۲۵ ۳۰ ۳۵



زمانی را که ساعت ها نشان می دهند را بنویس .



ساعت بین و است .



ساعت است .



۲۲

تم

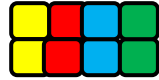

جایهای خالی را کامل کن.



.....

.....

.....




.....

.....

.....

.....

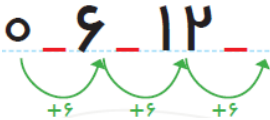


.....

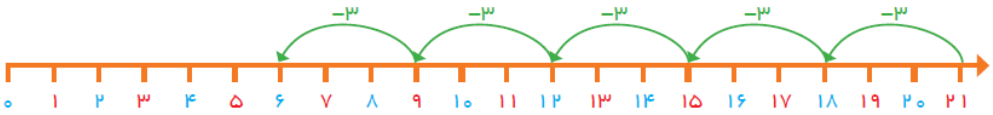
.....

.....

.....



الگوی محور ها را کامل کن.



۱۵ ۱۸ ۲۱



۲ ۴ ۶ ۸



۱۶



۱۶ ۱۸ ۲۰ ۲۲ ۲۴



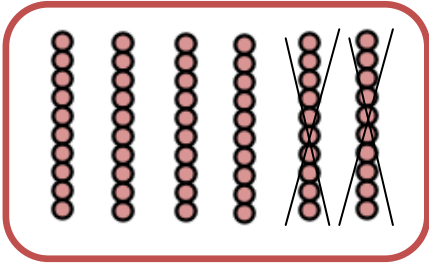
۷ ۱۴ ۲۱



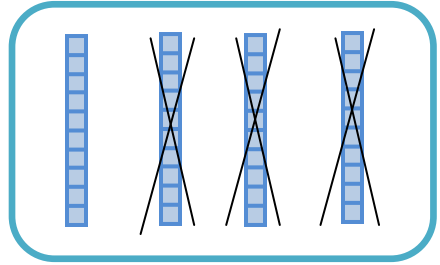
۲۸



جایهای خالی را با عدد مناسب کامل کن.



$$۶۰ - ۲۰ =$$



$$۴۰ - ۳۰ =$$

$$۳۰ - ۵ =$$

$$۲۵ + ۱۰ =$$

$$۷۰ - ۴۰ =$$

$$۴۰ + ۱۰ =$$

• - ۵ - ۱۰ - - - - -

۱۰ - ۲۰ - ۳۰ - - - - -

با استفاده از محور مسئله ها را حل کن.

در یک اتوبوس شهری ۱۳ مسافر سوار بودند. ۵ مسافر دیگر هم سوار شدند. با رسیدن به ایستگاه ۷ نفر پیاده شدند. حالا اتوبوس چند مسافر دارد؟



مسافر دارد



مجید دو بسته ی ۱۲ تایی مداد دارد. پدرش یک بسته ۶ تایی دیگر برایش خرید. مجید ۸ تا از مداد ها را بین دوستانش تقسیم کرد. حالا او چند مداد دارد؟



مداد دارد



مادرم ۱۰ سیب را با خودش به گردش آورده بود. خاله ام هم ۱۰ سیب دیگر آورده بود. من و دختر خاله ها ۵ تا از سیب ها را خوردیم. حالا چند سیب داریم؟



سیب داریم





جاهای خالی را با عدد مناسب کامل کن.

$$۵ + ۵ + ۵ + ۳ =$$

$$۵ - ۲۰ =$$

$$۲۰ + ۱۰ + ۵ =$$

$$۵ + ۱۰ + ۳۰ =$$

$$۱۰ + ۵ + ۳۰ =$$

$$۲۰ + ۵ + ۳ =$$

$$۵۰ + ۲۰ + ۵ + ۳ =$$

$$۱۰ + ۶ - ۳ =$$



$$۰ - ۸ - ۱۶ - ۲۴ - \quad - \quad - \quad -$$

$$۰ - ۹ - ۱۸ - ۲۷ - \quad - \quad - \quad -$$





به حروف و عدد بنویس .

۱۸

۲۲

۳۷

۴۹

چهل و هفت

شصت

هشتاد و دو

بیست و هفت

۵۴

۶۶

۷۳

۸۹

نود و یک

سی و شش

چهل و پنج

نود و سه

$$۳۰ + ۳۰ = \square < = > ۲۰ + ۴۰ = \square$$

$$۱۷ + ۷ = \square < = > ۱۵ + ۸ = \square$$

$$۲۵ + ۵ = \square < = > ۱۵ + ۱۰ = \square$$



دور عدد مناسب خط بکش .

6 7 5

5 2 3

8 9 10

3 2 1

به کمک مقایسه کن و علامت مناسب ($<$ $=$ $>$) بگذار.




مینا ۱۹ شکلات دارد. مادرش به او ۵ شکلات دیگر داد. حالا مینا چند شکلات دارد؟



..... شکلات دارد



علی و رضا از درخت کلابی ۲۴ کلابی و از درخت انار ۸ تا انار چیدند. حالا آن‌ها روی هم



چند تا میوه چیده‌اند؟

..... میوه چیده‌اند

با یک رنگ مختلف به هر قسمت هشت چوب خط اضافه کرده و مجموع چوب خط‌ها را بنویس.





فرهاد یک دسته ۷ تایی از گل های مختلف به مادرش هدیه کرد . مینا هم یک دسته ی ۱۲

تایی گل رز به او هدیه داد . مادرش روی هم چند گل دارد ؟

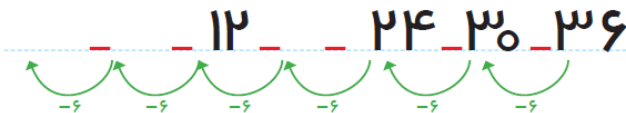
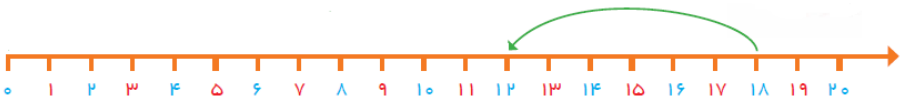
بعد از چند روز ۳ گل رز و ۲ گل از دسته ی دیگر پژمرده شدند .




چند گل پژمرده شدند ؟

چند گل شاداب مانده است ؟

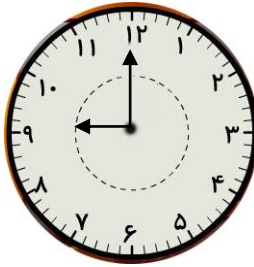
روی محور از عدد ۱۸ ، شش تا شش تا برگرد .



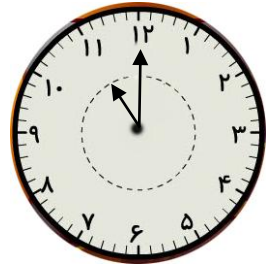
ساعت چند است.



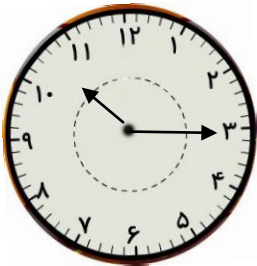
.....



.....



.....




ساعت بین و است.

ادامه بده.

هشتاد و پنج - هشتاد و شش - هشتاد و

پهشتاد و نهم - سی - چهل -



مانند نمونه مسئله را با چوب خط یا با کشیدن شکل حل کن. سپس جمله ی مربوط به جمع یا تفریق را بنویس.

۱۳ شیرینی در ظرف بود. بچه ها ۸ تا از آن ها را خوردند. حالا چند شیرینی در ظرف مانده؟



$$۱۳ - ۸ = \square$$

شیرینی در ظرف مانده



۵ قطعه پیتزا در سفره بود. پدر هم ۱۰ قطعه دیگر اضافه کرد. حالا چند قطعه پیتزا در سفره است؟



کدام یک سبک تر است. با × مشخص کن.



از عدد ۱۰۰ تا ۱ به ترتیب بنویس.



۱۲



۳۵



۶۰



۷۸

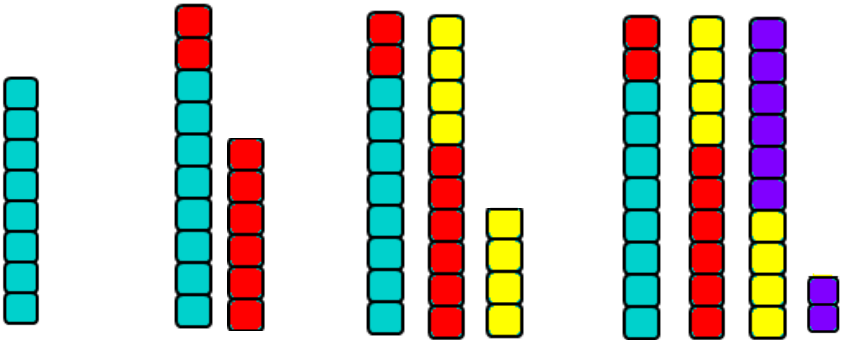




۲۵

تم

با کمک شکل‌ها جاهای خالی را کامل کن.



.....

۱۵ ماشین در پارکینگ بودند. ۶ تا از آن‌ها از پارکینگ خارج شدند. حالا چند ماشین مانده؟ اگر ۳ تای دیگر خارج شوند، چند ماشین می‌ماند؟



..... ماشین می‌ماند.



۲۴ پیچ فیل در آب‌پازی می‌کردند که ۴ تای آن‌ها رفتند. اگر ۱۰ تای دیگر هم بروند، چند پیچ فیل در آب‌باقی می‌ماند؟



..... پیچ فیل باقی می‌ماند.





در هر قسمت عدد های مناسب بنویس .

از عدد ۲۶ تا ۳۲ یکی یکی بنویس .



از عدد ۰ تا ۳۰ پنج تا پنج بنویس .



از عدد ۳۲ تا ۴۴ دو تا دو بنویس .



از عدد ۳۰ تا ۰ ده تا ده بنویس .



از عدد ۶ تا ۴۸ شش تا شش بنویس .




۹ پیاز سفید و ۶ پیاز قرمز در آشپزخانه بود. مادرم ۷ تا از پیازها را در غذا ریخت. حالا چند پیاز باقی مانده است؟

$$\square + \square = \square$$


..... پیاز در آشپزخانه است.

$$\square - \square = \square$$

..... پیاز باقی مانده.



با شابلون و خط کش و مدادرنگی یک فرش زیبا طراحی کن.



پیاموز | Biamoz.com

بزرگترین مرجع آموزشی و نمونه سوالات درسی تمامی مقاطع

شامل انواع | نمونه سوالات | فصل به فصل | پایان ترم | جزوه |

ویدئوهای آموزشی | گام به گام | طرح درس | طرح جابر | و ...

اینستاگرام

گروه تلگرام

کانال تلگرام

برای ورود به هر پایه در سایت ما روی اسم آن کلیک کنید

دبستان

اول	دوم	سوم	چهارم	پنجم	ششم
-----	-----	-----	-------	------	-----

متوسطه اول

هفتم	هشتم	نهم
------	------	-----

متوسطه دوم

دهم	یازدهم	دوازدهم
-----	--------	---------