

به نام خدا

آزمون ریاضی تا پایان تم ۲۳

نام و نام خانوادگی

۱ - جاهای خالی را با عدد مناسب کامل کن .

$10 + 10 + 10 = \square$

$5 + 5 + 5 + 5 + 4 = \square$

$20 + 10 + 5 + 5 = \square$

$20 + 20 + 7 = \square$

$20 - 5 - 5 - 5 = \square$

$10 + 10 + 5 - 2 = \square$

۲ - به حروف یا رقم بنویس .

سی و هفت		پنجاه و شش		نود و یک	
	۶۴		۷۹		۸۲

۳ - مسئله را با چوب خط رنگی حل کن . عبارت جمع را هم بنویس .

رضا ۶ مداد داشت . پدرش ۵ مداد دیگر به او داد .

مادرش هم ۸ مداد دیگر به او داد . حالا رضا چند مداد دارد ؟

حالا رضا مداد دارد .

۴ - با توجه به الگو ، عددهای نوشته نشده را بنویس .

۲۵ - ۳۰ - ۳۵ - - - - -

۱۰ - ۲۰ - ۳۰ - - - - -

۴ - ۶ - ۸ - - - - -

- - - - - ۱۵ - ۱۸ - ۲۱

- - - - - ۳۵ - ۴۰ - ۴۵

۵ - دنباله ی عدد را بنویس .

۷۶	۷۷								
----	----	--	--	--	--	--	--	--	--

۶ - جواب جمع و تفریق را نوشته و دور علامت مناسب خط بکش .

$20 + 30 = \square$

< = >

$20 + 10 = \square$

$10 + 10 + 5 + 5 = \square$

< = >

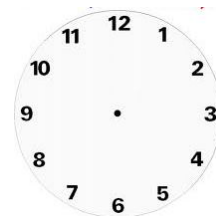

$25 + 5 + 5 - 5 = \square$

$10 - 4 = \square$

< = >

$7 + 8 = \square$

۷ - با توجه به ساعت ها ، جاهای خالی را کامل کن ؛ و عقربه های ساعت سمت راست را بکش .

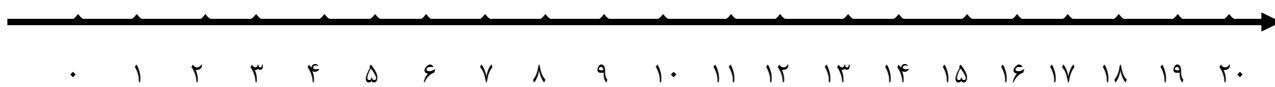


ساعت است

زمان بین ساعت و است .

ساعت ۱۰ را نشان بده .

۸ - منیژه ۹ جوجه داشت . او ۹ جوجه ی دیگر از بازار خرید . منیژه ۳ جوجه را به خواهرش داد . حالا منیژه چند جوجه دارد ؟



حالا منیژه جوجه دارد .

8	5	2	9	0	3	6	4	7	1
۸									

۹ - مانند نمونه کامل کن .

ضعیف

متوسط

خوب

عالی

بازفورد توصیفگر آموزگار :

پیاموز | Biamoz.com

بزرگترین مرجع آموزشی و نمونه سوالات درسی تمامی مقاطع

شامل انواع | نمونه سوالات | فصل به فصل | پایان ترم | جزوه |

ویدئوهای آموزشی | گام به گام | طرح درس | طرح جابر | و ...

اینستاگرام

گروه تلگرام

کانال تلگرام

برای ورود به هر پایه در سایت ما روی اسم آن کلیک کنید

دبستان

اول	دوم	سوم	چهارم	پنجم	ششم
-----	-----	-----	-------	------	-----

متوسطه اول

هفتم	هشتم	نهم
------	------	-----

متوسطه دوم

دهم	یازدهم	دوازدهم
-----	--------	---------