

پایه ی اول

به نام خدای خوب

دبستان


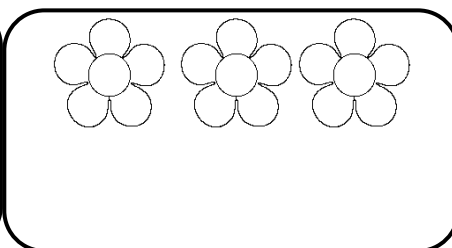
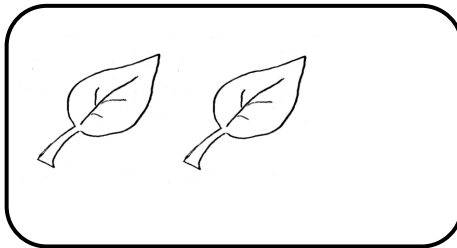
تکلیف ریاضی

تم ۳


نام زیبای من:

تاریخ:

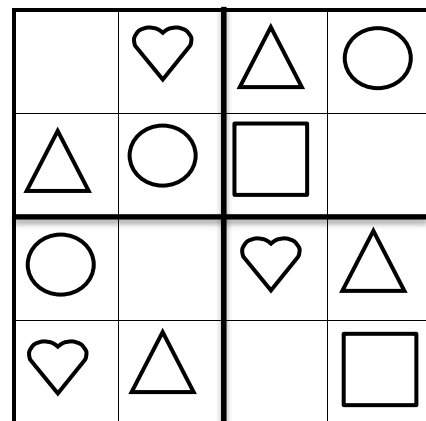

۱- به هر دسته دو شکل اضافه کن و بگو چند تا می شود.




۲- الگوی زیر را ادامه بده.



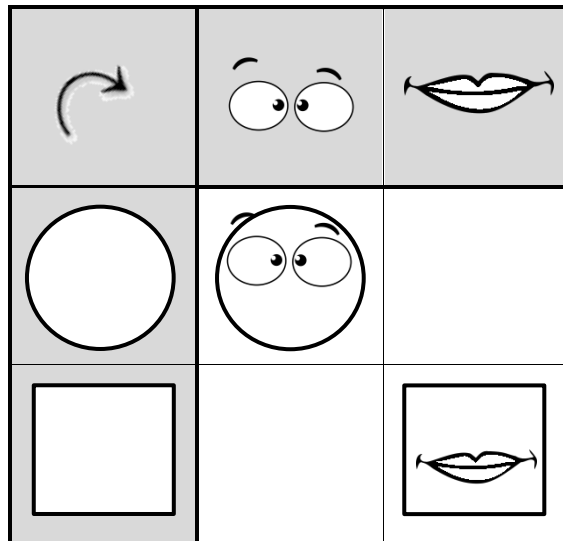
۳- مربع های شگفت انگیز را با شکل های مناسب کامل کن.




۴- تعداد شکل های هر دو دسته را به دست مربوط به آن وصل کن.



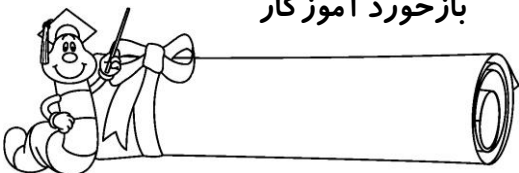
۵- جدول زیر را کامل کن.




۶- اگر به شکل های زیر دو تا اضافه شود، بگو چند تا می شود؟ (از دایره هارنگ کن.)



باز خورد آموزگار



خود سنجی



پیاموز | Biamoz.com

بزرگترین مرجع آموزشی و نمونه سوالات درسی تمامی مقاطع

شامل انواع | نمونه سوالات | فصل به فصل | پایان ترم | جزوه |

ویدئوهای آموزشی | گام به گام | طرح درس | طرح جابر | و ...

اینستاگرام

گروه تلگرام

کانال تلگرام

برای ورود به هر پایه در سایت ما روی اسم آن کلیک کنید

دبستان

اول	دوم	سوم	چهارم	پنجم	ششم
-----	-----	-----	-------	------	-----

متوسطه اول

هفتم	هشتم	نهم
------	------	-----

متوسطه دوم

دهم	یازدهم	دوازدهم
-----	--------	---------