

به نام خدا



















نام و نام خانوادگی:

تاریخ:









موضوع: آزمون ریاضی (هدف شناخت و تشخیص چوب خط و استفاده از آن)

پایه: اول



کدام چوب خط تعداد دسته را نشان می دهد؟ دورش خط بکش.



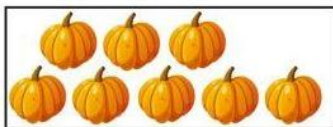

به تعداد هر دسته چوب خط بکش.

چوب خط مربوط به هر دسته را بکش.



چوب خط مربوط به هر شکل را به آن وصل کن.



با چوب خط های زیر چند دسته ده تایی می توان درست کرد؟ انجام بده.



سنجه ها

ردیف	انتظارات	کامل یادگرفته	در حد قابل قبول یادگرفته	نیاز به آموزش مجدد دارد
۱	قادر به سرشماری با چوب خط می باشد.			
۲	چوب خط مربوط به مجموعه های کمتر از ۶ تا را می شناسد.			
۳	چوب خط مربوط به مجموعه های بیشتر از ۵ تا را می شناسد.			

باز خورد معلم:

خودسنجی:

همسال سنجی:

# پیاموز | Biamoz.com

بزرگترین مرجع آموزشی و نمونه سوالات درسی تمامی مقاطع

شامل انواع | نمونه سوالات | فصل به فصل | پایان ترم | جزوه |

ویدئوهای آموزشی | گام به گام | طرح درس | طرح جابر | و ...

اینستاگرام

گروه تلگرام

کانال تلگرام

برای ورود به هر پایه در سایت ما روی اسم آن کلیک کنید

## دبستان

اول	دوم	سوم	چهارم	پنجم	ششم
-----	-----	-----	-------	------	-----

## متوسطه اول

هفتم	هشتم	نهم
------	------	-----

## متوسطه دوم

دهم	یازدهم	دوازدهم
-----	--------	---------