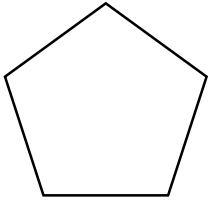
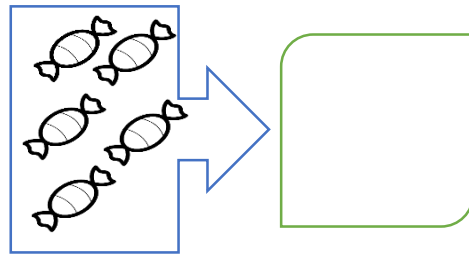
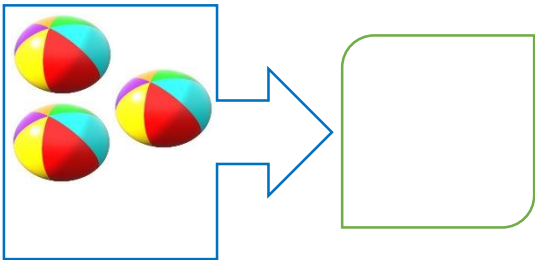



1- فرزندم لبه های هر شکل را آبی و گوشه ها را قرمز کن



2- به تعداد شکل های هر دسته چوب خط بکش




3- شکل های سمت راست و چپ با هم چندتا می شوند با چوب خط نشان بده

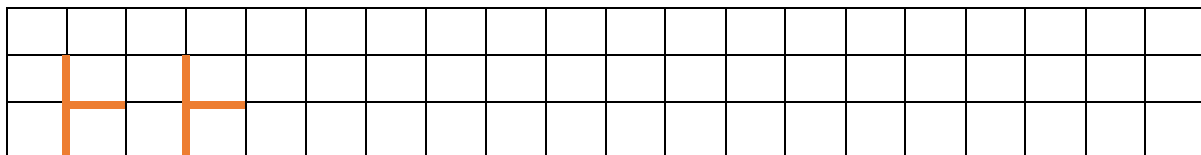


4 - به تعداد شکل های سمت چپ انگشت نشان بده، به تعداد شکل های سمت راست از انگشتانت ببندوبه تعداد باقی مانده

چوب خط بکش.



5- الگو را ادامه بده





به نام خدا


آزمون تم 5-4 ریاضی اول دبستان

نام و نام خانوادگی.....

6- پسرگلم الگو را ادامه بده، الگویی را که پیدا کرده ای در سمت راست بکش



7- پسر پرتلاشم با رنگ مناسب جدول شگفت انگیز را کامل کن



پیاموز | Biamoz.com

بزرگترین مرجع آموزشی و نمونه سوالات درسی تمامی مقاطع

شامل انواع | نمونه سوالات | فصل به فصل | پایان ترم | جزوه |

ویدئوهای آموزشی | گام به گام | طرح درس | طرح جابر | و ...

اینستاگرام

گروه تلگرام

کانال تلگرام

برای ورود به هر پایه در سایت ما روی اسم آن کلیک کنید

دبستان

اول	دوم	سوم	چهارم	پنجم	ششم
-----	-----	-----	-------	------	-----

متوسطه اول

هفتم	هشتم	نهم
------	------	-----

متوسطه دوم

دهم	یازدهم	دوازدهم
-----	--------	---------