

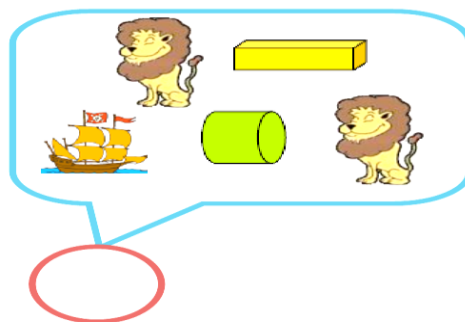
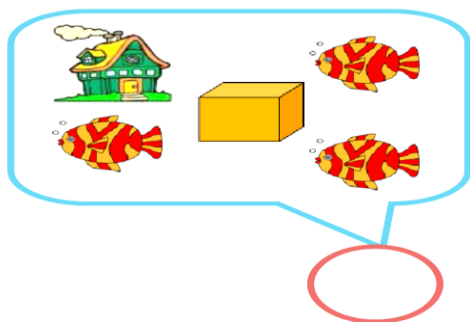

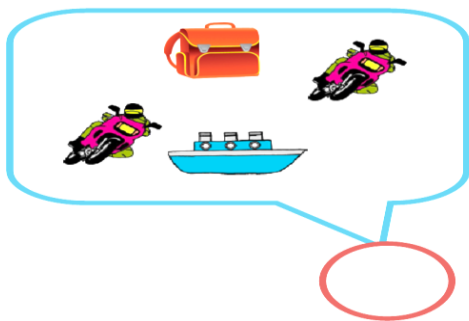
نام و نام خانوادگی:

آموزگار پایه اول دزفول


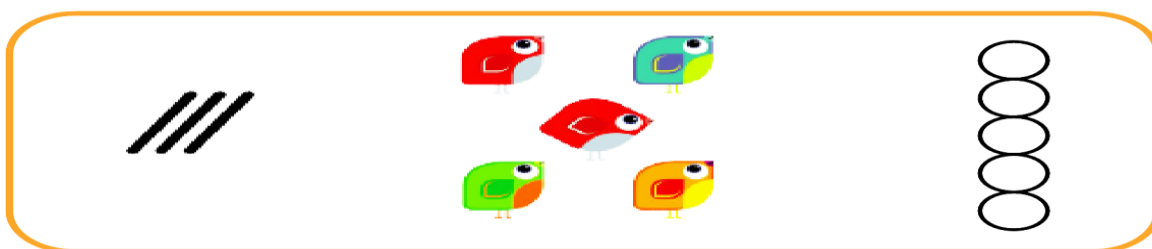
آزمون کتبی عملکردی ریاضی

مفهوم اولیه ی تفریق

۱- فرزندم در هر کادر به اندازه ی تمام شکل ها انگشت باز کن. سپس به اندازه ی شکل های مثل هم انگشت ببندد. حالا به اندازه ی باقی مانده چوب خط در داخل گردی بکش.



۲- عزیز دلم به تعداد چوب خط ها از شکل ها خط زده و به تعداد باقی مانده گردی رنگ کن.




۳- با هوشم اگر به تعداد شکل های سمت راست از شکل های سمت چپ برداریم . چقدر باقی می ماند ؟ به همان تعداد از چینه ها از چینه ها خط بزن . چند تا باقی می ماند خوب خط بکش .

۴- به اندازه ی شکل هایی که خط خورده از چینه ها خط بزن و به تعداد باقی مانده از شکل ها ، چینه ها را رنگ بزن

۵- به اندازه ی انگشت ها از شکل ها خط بزن و به اندازه ی باقی مانده چینه از پایین رنگ کن .

فرزند مهربانم : کار امروزت را چقدر دوست داشتی ؟ به اندازه ی خوش حالت از این گل ها رنگ کن



نظر آموزگار :

خ خ	خ	ق ق	ن ت

- تعداد اشکال را به درستی تشخیص می دهد
- مهارت باز کردن انگشت را به درستی انجام می دهد
- مهارت بستن انگشتان را به درستی انجام می دهد
- مفهوم باقی مانده را به درستی تشخیص می دهد

نظر نهایی آموزگار :

پیاموز | Biamoz.com

بزرگترین مرجع آموزشی و نمونه سوالات درسی تمامی مقاطع

شامل انواع | نمونه سوالات | فصل به فصل | پایان ترم | جزوه |

ویدئوهای آموزشی | گام به گام | طرح درس | طرح جابر | و ...

اینستاگرام

گروه تلگرام

کانال تلگرام

برای ورود به هر پایه در سایت ما روی اسم آن کلیک کنید

دبستان

اول	دوم	سوم	چهارم	پنجم	ششم
-----	-----	-----	-------	------	-----

متوسطه اول

هفتم	هشتم	نهم
------	------	-----

متوسطه دوم

دهم	یازدهم	دوازدهم
-----	--------	---------