

تاریخ:

به نام خدا

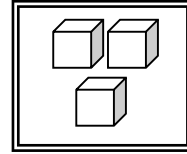

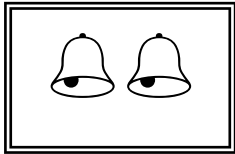

ارزشیابی درس ریاضی - پایه اول

نام و نام خانوادگی:

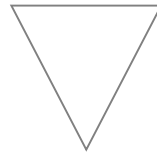
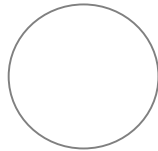

برگ های سمت چپ درخت را نارنجی و برگ های سمت راست را سبز رنگ بزن.



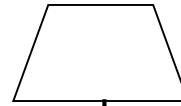
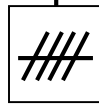
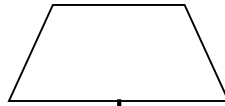
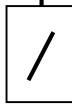
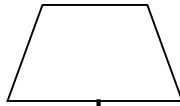
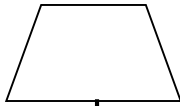
در هر قسمت به تعداد شکل ها چوب خط بکش.



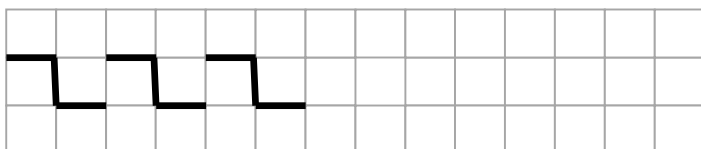
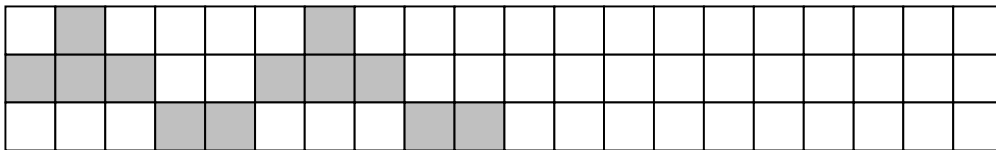
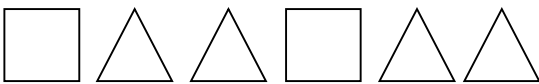
گوشه های هر شکل را با مداد قرمز مشخص کن.



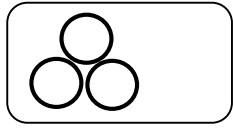
با توجه به تعداد چوب خط ها، در جای خالی به دلخواه شکل بکش.

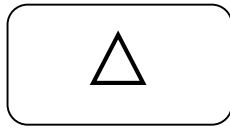



در هر قسمت، الگوها را ادامه بده و شکلی که تکرار می شود را در سمت راست بکش.



به هر قسمت دو شکل دیگر اضافه کن. تعداد کل شکل ها را با چوب خط نشان بده.







جدول را با شکل های مناسب کامل کن. (با استفاده از شابلون)

به تعداد ستاره ها، از سمت راست چینه ها را خط بزن. به تعداد چینه های باقی مانده، چوب خط بکش.











هزار آفرین به تلاشت!

نظر آموزگار:

پیاموز | Biamoz.com

بزرگترین مرجع آموزشی و نمونه سوالات درسی تمامی مقاطع

شامل انواع | نمونه سوالات | فصل به فصل | پایان ترم | جزوه |

ویدئوهای آموزشی | گام به گام | طرح درس | طرح جابر | و ...

اینستاگرام

گروه تلگرام

کانال تلگرام

برای ورود به هر پایه در سایت ما روی اسم آن کلیک کنید

دبستان

اول	دوم	سوم	چهارم	پنجم	ششم
-----	-----	-----	-------	------	-----

متوسطه اول

هفتم	هشتم	نهم
------	------	-----

متوسطه دوم

دهم	یازدهم	دوازدهم
-----	--------	---------