

پایه ی اول

به نام خدای خوب

دبستان





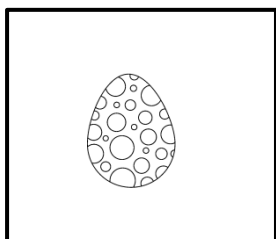
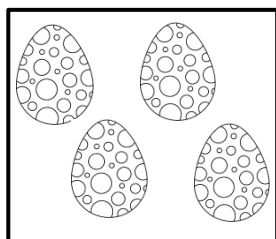
تکلیف ریاضی

تم ۵

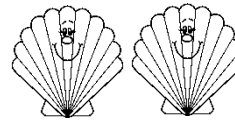

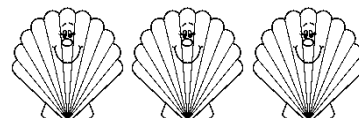
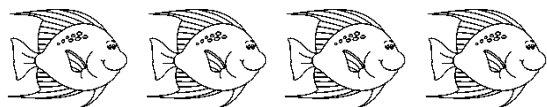
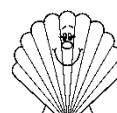

نام زیبای من:

تاریخ:



۱- شکل های سمت چپ و راست با هم چند تا می شوند؟ با چوب خط حساب کن.




۲- به تعداد ماهی های سمت چپ انگشت باز کن. سپس به تعداد صدف ها از انگشتان خود ببند. چند تا می ماند؟ به تعداد آن چوب خط بکش.



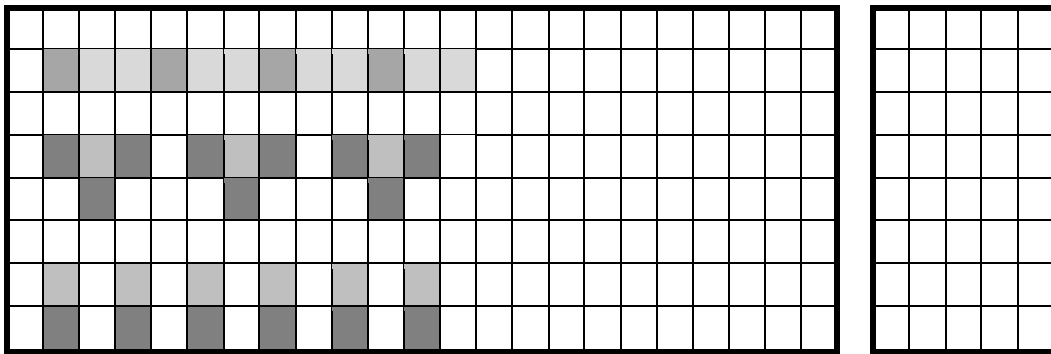
۳- به تعداد پرنده ها از انگشتان رنگ بزن، سپس به تعداد انگشتان باقی مانده چوب خط بکش.





۴- الگوی شطرنجی زیر را ادامه بده.



۵- در هر ردیف ابتدا الگو را پیداکن و ادامه بده سپس در سمت راست الگویی را که پیدا کرده ای بکش.



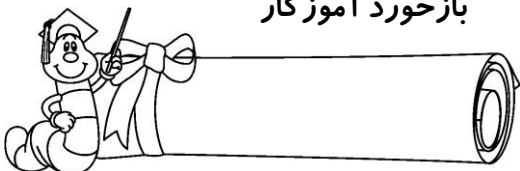
۶- مربع های شگفت انگیز را کامل کن.




۷- با شابلون یک شکل ۳ گوشه، یک شکل ۴ گوشه و یک شکل ۵ گوشه بکش. سپس به تعداد لبه های هر شکل داخل آن ها چوب خط بکش.



بازخورد آموزگار



خود سنجی



پیاموز | Biamoz.com

بزرگترین مرجع آموزشی و نمونه سوالات درسی تمامی مقاطع

شامل انواع | نمونه سوالات | فصل به فصل | پایان ترم | جزوه |

ویدئوهای آموزشی | گام به گام | طرح درس | طرح جابر | و ...

اینستاگرام

گروه تلگرام

کانال تلگرام

برای ورود به هر پایه در سایت ما روی اسم آن کلیک کنید

دبستان

اول	دوم	سوم	چهارم	پنجم	ششم
-----	-----	-----	-------	------	-----

متوسطه اول

هفتم	هشتم	نهم
------	------	-----

متوسطه دوم

دهم	یازدهم	دوازدهم
-----	--------	---------