


نام و نام خانوادگی:


آزمون عملکردی ریاضی تم ۷ دبستان:

تاریخ:

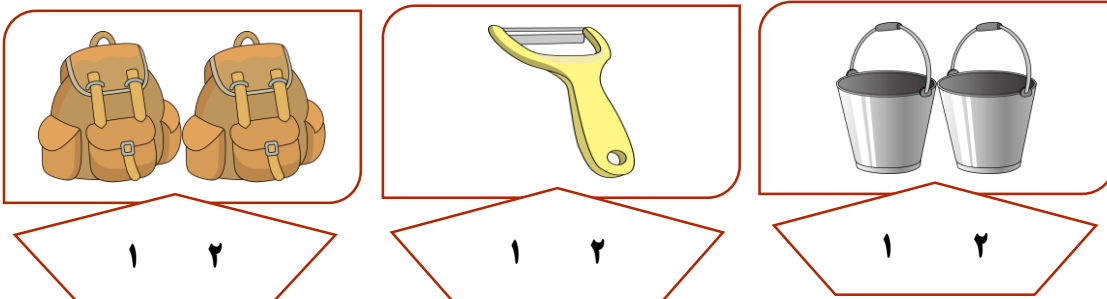
شکل های زیر روی هم چندتا می شوند، با کشیدن چوب خط نشان بده.



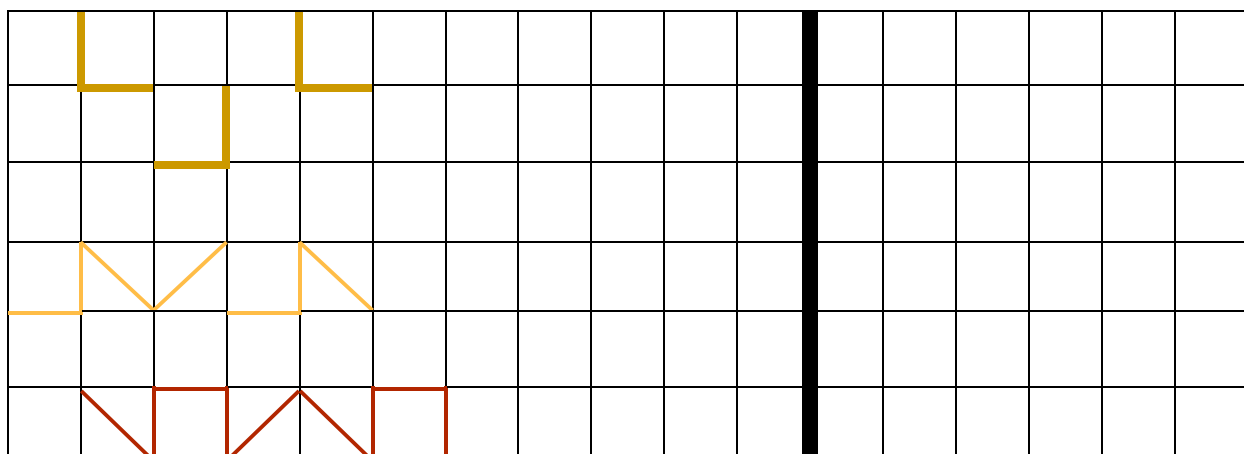
۲- هر شکل چه عددی را نشان می دهد، در گردی سمت چپ بنویس و سمت راست چوب خط بکش.



۳- دور عدد مناسب را خط بکش.

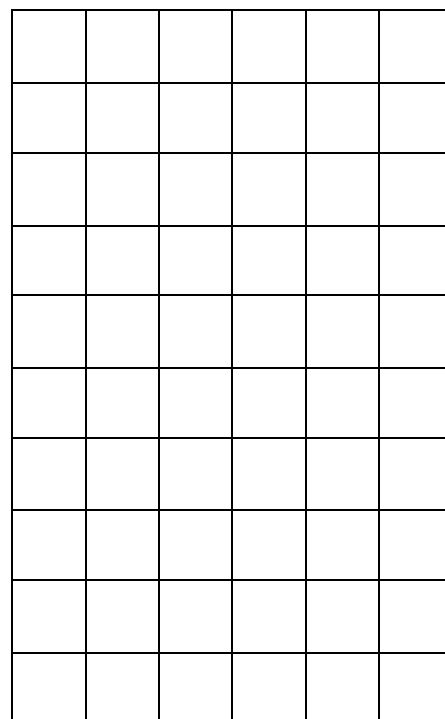


۴- الگوها را ادامه بده و شکل تکرار شده را سمت راست بکش.



الگوهای داده شده را رنگ بزن و ادامه بده.

سبز		زرد		سبز					
	قرمز		آبی						
نارنجی	سبز	نارنجی		نارنجی	سبز				
	زرد								
	بنفش	بنفش		بنفش	بنفش				
قرمز	قرمز		قرمز	قرمز					



موفق باشید

ارزیابی
معلم:

پیاموز | Biamoz.com

بزرگترین مرجع آموزشی و نمونه سوالات درسی تمامی مقاطع

شامل انواع | نمونه سوالات | فصل به فصل | پایان ترم | جزوه |

ویدئوهای آموزشی | گام به گام | طرح درس | طرح جابر | و ...

اینستاگرام

گروه تلگرام

کانال تلگرام

برای ورود به هر پایه در سایت ما روی اسم آن کلیک کنید

دبستان

اول	دوم	سوم	چهارم	پنجم	ششم
-----	-----	-----	-------	------	-----

متوسطه اول

هفتم	هشتم	نهم
------	------	-----

متوسطه دوم

دهم	یازدهم	دوازدهم
-----	--------	---------