

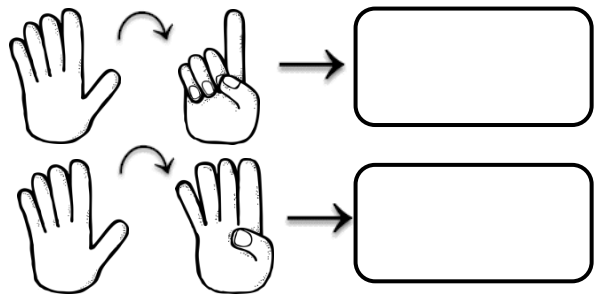
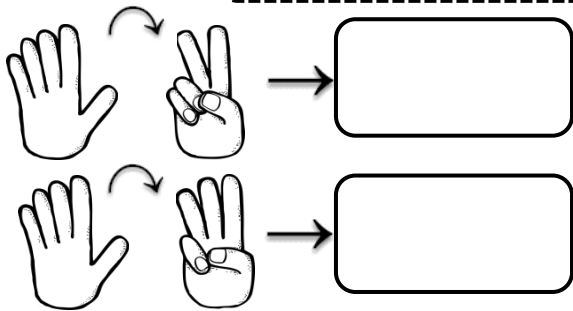
پایه ی اول

به نام خدای خوب



نام زیبای من:
تاریخ:

۱- از هر دست چند انگشت بسته شده است؟ چند انگشت باقی می ماند؟ با چوب خط نشان بده.




۲- مربع های شگفت انگیز را کامل کن.

| | | | |
|----|----|----|----|
| | سو | | مو |
| | دو | سو | |
| | | | دو |
| سو | | مو | بو |


| | | | |
|----|----|----|----|
| | و | دَ | مَ |
| مَ | دَ | سا | |
| | | | |
| دَ | سا | مَ | و |

۳- ابتدا الگوی زیر را توضیح بده و بعد ادامه بده. سپس الگویی را که پیدا کرده ای در سمت راست بکش.

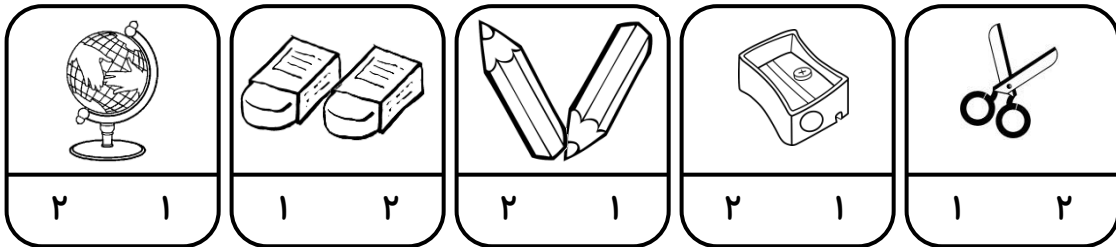


۴- به تعداد هر عدد برای گل ها برگ بکش .

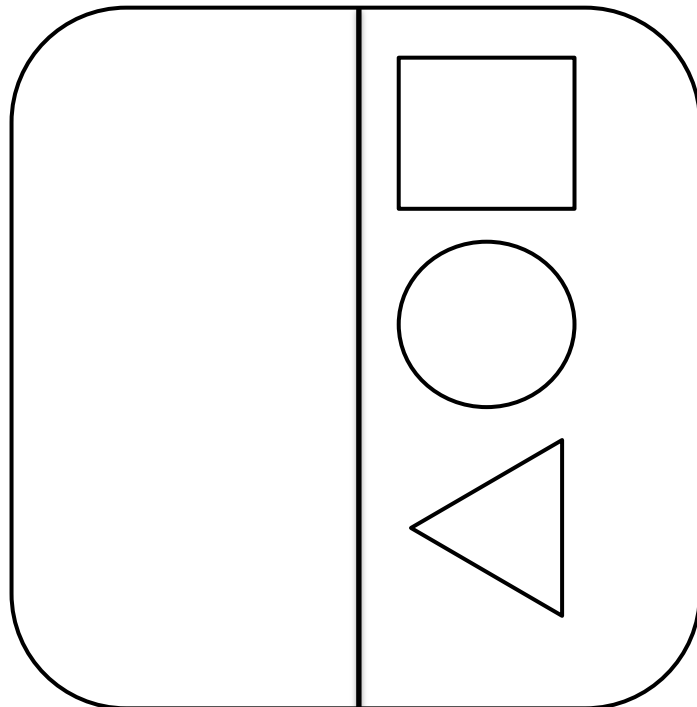
۵- شکل ها را رنگ بزن و عدد هردسته را بنویس.



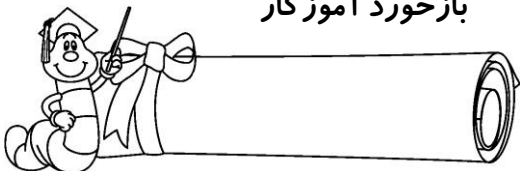
۶- دور عدد مناسب خط بکش.




۷- با کمک شابلون طرف دیگر خط را کامل کن و شکل های شبیه هم را یک رنگ بزن.



بازخورد آموزگار



خودسنجی



پیاموز | Biamoz.com

بزرگترین مرجع آموزشی و نمونه سوالات درسی تمامی مقاطع

شامل انواع | نمونه سوالات | فصل به فصل | پایان ترم | جزوه |

ویدئوهای آموزشی | گام به گام | طرح درس | طرح جابر | و ...

اینستاگرام

گروه تلگرام

کانال تلگرام

برای ورود به هر پایه در سایت ما روی اسم آن کلیک کنید

دبستان

| | | | | | |
|-----|-----|-----|-------|------|-----|
| اول | دوم | سوم | چهارم | پنجم | ششم |
|-----|-----|-----|-------|------|-----|

متوسطه اول

| | | |
|------|------|-----|
| هفتم | هشتم | نهم |
|------|------|-----|

متوسطه دوم

| | | |
|-----|--------|---------|
| دهم | یازدهم | دوازدهم |
|-----|--------|---------|