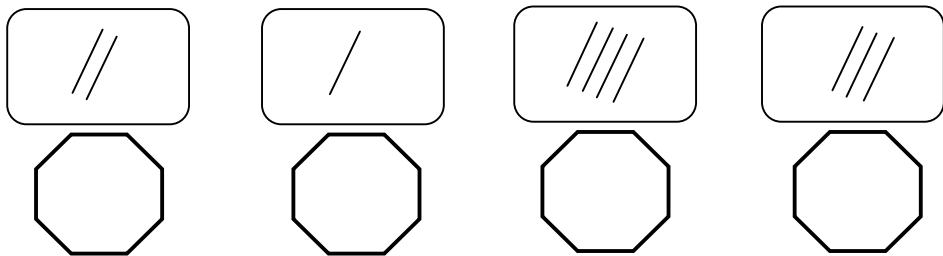


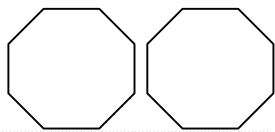
پسرم چوب خط ها را به دقت بشمار و عدد مناسب هر چوب خط را بنویس.



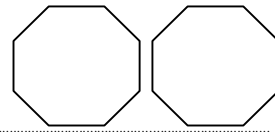
حالا عدد هایی را که بالا نوشتی به ترتیب از کمتر به بیشتر بشمار و مرتب کن.

از هر عدد یک خط بشمار و بنویس، در انتهای هر خط به مقدار هر عدد شکل و چوب خط بکش.

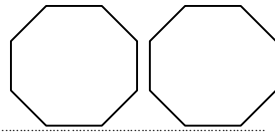
۱



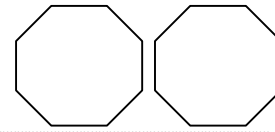
۲



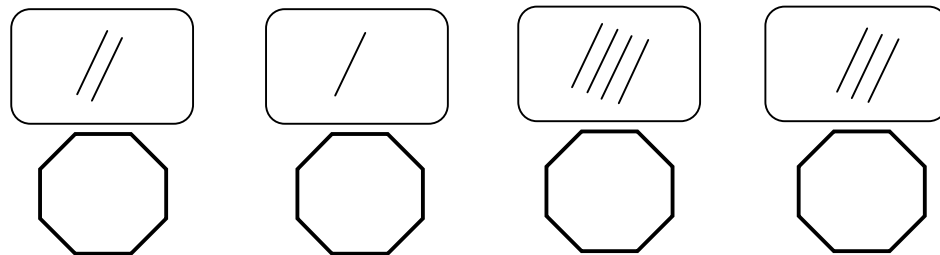
۳



۴



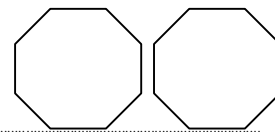
پسرم چوب خط ها را به دقت بشمار و عدد مناسب هر چوب خط را بنویس.



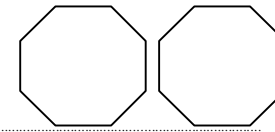
حالا عدد هایی را که بالا نوشتی به ترتیب از کمتر به بیشتر بشمار و مرتب کن.

از هر عدد یک خط بشمار و بنویس، در انتهای هر خط به مقدار هر عدد شکل و چوب خط بکش.

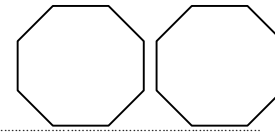
۱



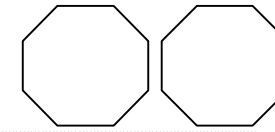
۲



۳



۴



پیاموز | Biamoz.com

بزرگترین مرجع آموزشی و نمونه سوالات درسی تمامی مقاطع

شامل انواع | نمونه سوالات | فصل به فصل | پایان ترم | جزوه |

ویدئوهای آموزشی | گام به گام | طرح درس | طرح جابر | و ...

اینستاگرام

گروه تلگرام

کانال تلگرام

برای ورود به هر پایه در سایت ما روی اسم آن کلیک کنید

دبستان

اول	دوم	سوم	چهارم	پنجم	ششم
-----	-----	-----	-------	------	-----

متوسطه اول

هفتم	هشتم	نهم
------	------	-----

متوسطه دوم

دهم	یازدهم	دوازدهم
-----	--------	---------