

تم هشت



نام دانش آموز

.....

جدول های شگفت انگیز را کامل کن .

۲	۱		۳
۳		۲	۱
۱	۲		۲
۲		۱	

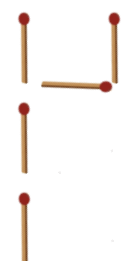
		۳	۲
۲	۳	۲	
۳	۱		
۲	۲		۳



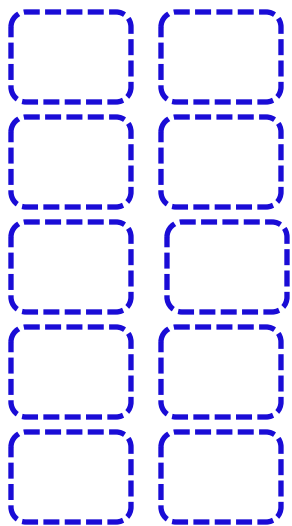

در نماز دورگفتی هر حالت را چند بار انجام می دهیم؟ زیر هر تصویر عدد آن بنویس.



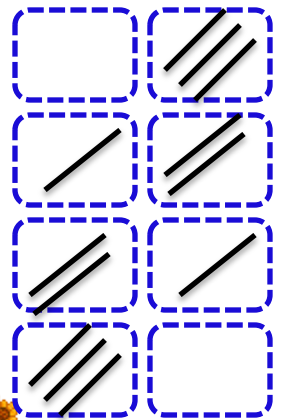

مانند نمونه عددهای ۱، ۳ و ۴ را با کشیدن چوب کبریت، نشان بده.



در هر ردیف ابتدا گردی های آبی را بشمار و چوب خط های آن را در خانه ی سمت چپ و سپس گردی های قرمز را بشمار و چوب خط های آن را در خانه ی سمت راست بکش.



با استفاده از دو مدادرنگی و باتوجه به چوب خط ها، گردی ها را رنگ کن.



۷

۲

داستان بگو. چندتا پرندۀ بودند؟ چندتا پرواز کردند؟ چندتا هنوز نشسته هستند؟



داستان بگو. چندتا گربه بودند؟ چندتا رفتند؟ چندتا هنوز نشسته هستند؟

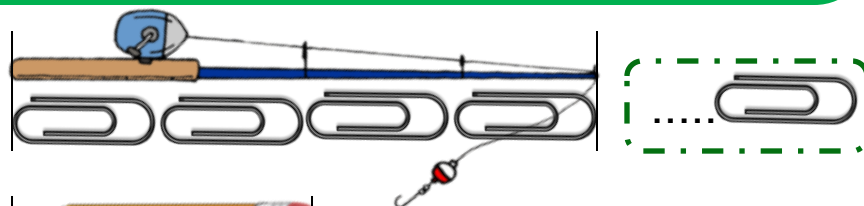


داستان بگو. چندتا پروانه بودند؟ چندتا پرواز کردند؟ چندتا هنوز پرواز نکرده اند؟



۳

اندازه ی هر شکل چند گیره است؟ کنار آن بنویس.








در هر ردیف شکلی بکش که به اندازه ی آن چند گیره باشد و در جای خالی تعداد گیره ها را بنویس.



۶

هر شکل چه عددی را نشان می دهد .



نوشتن عدد ۴ را ادامه بده .






الگو را ادامه بده .

۱		۱																	
۲		۲																	
	۳		۳																
	۴		۴																



هر شکل چه عددی را نشان می دهد .



نوشتن عدد ۳ را ادامه بده .



الگو را ادامه بده .

■	■	■	■	■	■	■													
■	■	■	■	■	■	■	■	■	■	■									
■							■												
■							■												



پیاموز | Biamoz.com

بزرگترین مرجع آموزشی و نمونه سوالات درسی تمامی مقاطع

شامل انواع | نمونه سوالات | فصل به فصل | پایان ترم | جزوه |

ویدئوهای آموزشی | گام به گام | طرح درس | طرح جابر | و ...

اینستاگرام

گروه تلگرام

کانال تلگرام

برای ورود به هر پایه در سایت ما روی اسم آن کلیک کنید

دبستان

اول	دوم	سوم	چهارم	پنجم	ششم
-----	-----	-----	-------	------	-----

متوسطه اول

هفتم	هشتم	نهم
------	------	-----

متوسطه دوم

دهم	یازدهم	دوازدهم
-----	--------	---------