


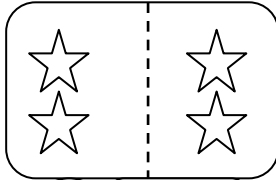



کلم عدد هر دسته را بنویس.

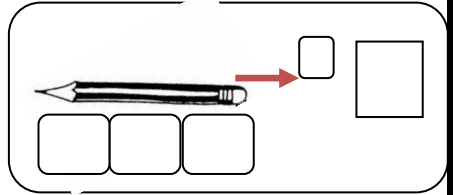
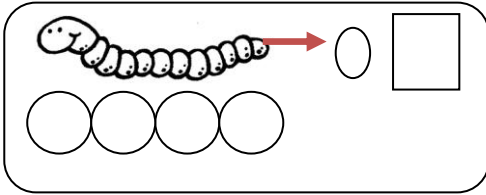


در هر خانه شکل های سمت راست و چپ با هم چند تا هستند با چوب




خط و عدد نشان بده؟


طول هر شکل چند تا شکل کوچک است؟ عدد آن را بنویس



خط تقارن شکل های زیر را بکش.



مربع های شگفت انگیز را حل کن.



۲	۱	۴	۳
۳			۲
۱			۴
۴	۳	۲	۱

۱	۲		۴
۲		۴	۳
۳	۴	۱	



# پیاموز | Biamoz.com

بزرگترین مرجع آموزشی و نمونه سوالات درسی تمامی مقاطع

شامل انواع | نمونه سوالات | فصل به فصل | پایان ترم | جزوه |

ویدئوهای آموزشی | گام به گام | طرح درس | طرح جابر | و ...

اینستاگرام

گروه تلگرام

کانال تلگرام

برای ورود به هر پایه در سایت ما روی اسم آن کلیک کنید

## دبستان

اول	دوم	سوم	چهارم	پنجم	ششم
-----	-----	-----	-------	------	-----

## متوسطه اول

هفتم	هشتم	نهم
------	------	-----

## متوسطه دوم

دهم	یازدهم	دوازدهم
-----	--------	---------