

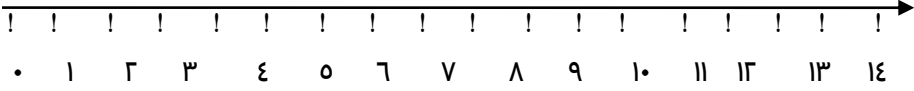



نام:	«به نام دانای هستی بخش»	سال تحصیلی:
نام خانوادگی:		تاریخ:
پایه: دوم ابتدایی		نوبت: سطح <input type="checkbox"/> کلاسی <input type="checkbox"/> اول <input type="checkbox"/> دوم <input type="checkbox"/>
نام درس: ریاضی		زمان: ۴۵ دقیقه

## آزمون فصل اول ریاضی

ردیف	سوال
۱	<p>عددهای زیر را به رقم یا حروف بنویس.</p> <p>شصت و پنج  ..... ۴۱</p> <p>هفتاد و سه  ..... ۸۰</p>
۲	<p>عدد ۳۲ چند رقم دارد؟ .....</p> <p>رقم های آن را نام ببر. ....و.....</p> <p>با رقم های آن چند عدد دو رقمی دیگر می توانی بنویسی. ....</p>
۳	<p>حاصل عبارت رو به رو را با استفاده از محور به دست بیاور.</p> <p><math>9 + 5 - 3 =</math></p> 
۴	<p>با رقم های « ۳ و ۶ و ۰ » چند عدد دو رقمی می توانی بسازی بنویس.</p> <p>.....</p>
۵	<p>با دو کارت <input type="text" value="۸"/> و <input type="text" value="۹"/> چند عدد دو رقمی می توانی بسازی بنویس.</p> <p>.....</p>
۶	<p>عبارت های زیر را به صورت ذهنی انجام بده.</p> <p><math>5 + 10 + 5 + 10 =</math></p> <p><math>3 + 2 + 20 + 10 + 20 =</math></p>
۷	<p>عدد مربوط به هر شکل را در جدول بنویس و جای خالی را کامل کن.</p> <p>با عدد: .....</p> <p>با حروف: .....</p> 
۸	<p>الگوها را ادامه بده.</p> <p>۱۵ - ۲۰ - - - -</p> <p>۶۷ - ۷۰ - ۷۳ - - -</p>

# پیاموز | Biamoz.com

بزرگترین مرجع آموزشی و نمونه سوالات درسی تمامی مقاطع

شامل انواع | نمونه سوالات | فصل به فصل | پایان ترم | جزوه |

ویدئوهای آموزشی | گام به گام | طرح درس | طرح جابر | و ...

اینستاگرام

گروه تلگرام

کانال تلگرام

برای ورود به هر پایه در سایت ما روی اسم آن کلیک کنید

## دبستان

اول	دوم	سوم	چهارم	پنجم	ششم
-----	-----	-----	-------	------	-----

## متوسطه اول

هفتم	هشتم	نهم
------	------	-----

## متوسطه دوم

دهم	یازدهم	دوازدهم
-----	--------	---------