

نام و نام خانوادگی

به نام فائق زیبایی ها

تاریخ

موضوع: ریاضی

آموزشگاه :

زمان : ۴۰ دقیقه

وسایل مورد نیاز (مداد پاک کن ، کاغذ شابلون)

شیوه اجرا : فردی



هدف: تقویت و نهادینه مفهوم زمان در دانش آموزان

شرح فعالیت :

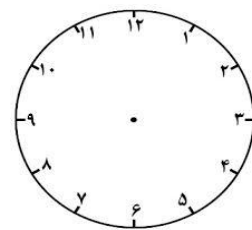
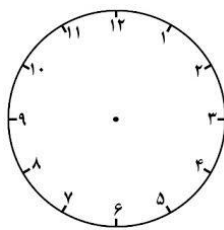
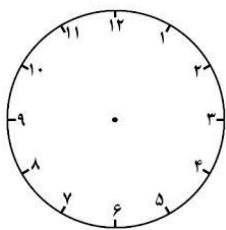
دانش آموز عزیز داستان زیر را بخوان و زمان هر فعالیت را روی ساعت نشان بده

قرار است پدر و مادر محمد به مسافرت بروند، شما به او کمک کنید تا کارهای خود را به موقع انجام دهند.

گلم ابتدا با شابلون ساعت را بکش و یکی از آن ها را با اعداد دیجیتال و دیگری با اعداد انگلیسی کامل کن



محمد هر شب ساعت ۹:۲۰ دقیقه می خوابد و صبح ، ساعت **شش و ربع** بیدار می شود. او در ساعت ۷:۴۵ دقیقه در مدرسه حاضر می شود. حالا با دقت ساعت خوابیدن، بیدار شدن و حاضر شدن او را در مدرسه نشان دهید



مدرسه محمد ساعت ۱۲:۲۵ دقیقه تعطیل می شود، **نیم ساعت** طول می کشد تا به خانه برسد او چه ساعتی به خانه می







رسد؟.....یا.....

او باید ساعت ۴ عصر به کلاس بسکتبال برود و برای همین **یک ربع** قبل از آن از خانه خارج می شود. او چه ساعتی از خانه

خارج می شود؟.....یا.....

کلاس بسکتبال محمد ساعت ۵:۱۵ دقیقه تمام می شود و ۱۵ دقیقه طول می کشد تا به خانه برسد، او چه ساعتی در خانه است؟.....یا.....

محمد قبل از کلاس بسکتبال تکالیف خود را نوشت، او چقدر زمان داشت تا تکالیفش را بنویسد؟.....

خود سنجی			
			احساسم در باره این آزمون چگونه است؟
			نظر آموزگار را چگونه حدس می زنی؟
در چه مواردی باید بیش تر تلاش کنم؟			

معلم سن جی :

خیر	تا حدودی	بلی	فهرست و ارسسی
			مهارت کشیدن اعداد را روی ساعت دارد
			می تواند زمان های خواسته شده را روی ساعت ها نشان دهد
			مفهوم ربع و نیم را یاد گرفته است
			به درستی زمان ها را کم و زیاد می کند

باز خورد نهایی آموزگار :

پیاموز | Biamoz.com

بزرگترین مرجع آموزشی و نمونه سوالات درسی تمامی مقاطع

شامل انواع | نمونه سوالات | فصل به فصل | پایان ترم | جزوه |

ویدئوهای آموزشی | گام به گام | طرح درس | طرح جابر | و ...

اینستاگرام

گروه تلگرام

کانال تلگرام

برای ورود به هر پایه در سایت ما روی اسم آن کلیک کنید

دبستان

اول	دوم	سوم	چهارم	پنجم	ششم
-----	-----	-----	-------	------	-----

متوسطه اول

هفتم	هشتم	نهم
------	------	-----

متوسطه دوم

دهم	یازدهم	دوازدهم
-----	--------	---------