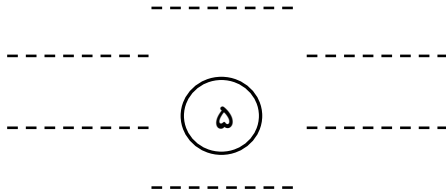


به نام خدا

نام و نام خانوادگی

ریاضی

۱- جدول نظام دار زیر را کامل کن.



۲- در جای خالی عدد مناسب بنویس.

$$\square + \square = 6$$
$$\square + 2 = 5$$

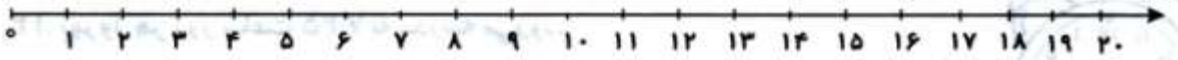
$$3 + \square = 10$$
$$\square + 4 = 8$$

۳- با عدد و حروف بنویس.

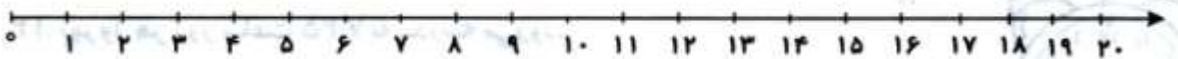
۳۲
۱۹
صد
شصت و هفت

۱- جمع و تفریق روبه رو را روی محور نشان دهید.


$$15 - 7 =$$



$$14 + 2 - 5 =$$



۵- مینا ۱۵ کتاب دارد امروز ۶ کتاب دیگر خرید. حالا او چند کتاب دارد؟ (جلو نویسی و عبارت)



به نام خدا

نام و نام خانوادگی :

تاریخ :

ریاضی

۶- نوشتن عددها را ادامه بده.


..... - - - - - - - - - ۱۰ - ۲۰

..... - - - - - - - - - سی - سی و پنج - چهل

۷- شکل های زیر را بشمار و دسته کن سپس در جای خالی عدد مناسب قرار بده.

ده تایی

یکی



..... ده تایی و یکی.

۸- رقم یکان عددی ۰ و دهگان آن شش است . این عدد را بنویس.

..... با عدد با حروف

۹- یک عدد دو رقمی بنویس که دهگانش ۹ باشد و یکانش دو تا کمتر از دهگانش باشد.

..... با عدد با حروف

۱۰- با رقم های ۲ و ۹ چند عدد دو رقمی می توانی بنویسی ؟ آنها را بنویس.

۱۱-۱۲ سیب در سبد بود ، ۷ سیب دیگر در سبد گذاشتیم ، ریحانه ۹ سیب از سبد برداشت . حالا در سبد چند

سیب وجود دارد؟(جلونویسی و عبارت)



به نام خدا

نام و نام خانوادگی :

تاریخ :

ریاضی

۱۲- در جاهای خالی عدد مناسب بنویسید.

۲ دسته ی ده تایی به اضافه ۳ دسته ی ده تایی می شود دسته ی ده تایی .

۷ دسته ی ده تایی منهای ۵ دسته ی ده تایی می شود دسته ی ده تایی .

$$۲۰ + ۳۰ + ۲ =$$

$$۵ + ۴۰ + ۱۰ =$$

۱۳- حاصل جمع و تفریق را با هر روشی که می خواهید، پیدا کنید.

$$۵ + ۹ =$$

$$۱۶ - ۵ =$$

۱۴- الگوی شمارش رو به عقب را کامل کن.

..... ، ، ، ۲۸ ، ۳۲

..... ، ، ، ۴۲ ، ۴۵

۱۵- عددی دو رقمی هستم که رقم هایم مثل هم است و مجموع آن ها ۸ می شود. من چه عددی هستم؟

پیاموز | Biamoz.com

بزرگترین مرجع آموزشی و نمونه سوالات درسی تمامی مقاطع

شامل انواع | نمونه سوالات | فصل به فصل | پایان ترم | جزوه |

ویدئوهای آموزشی | گام به گام | طرح درس | طرح جابر | و ...

اینستاگرام

گروه تلگرام

کانال تلگرام

برای ورود به هر پایه در سایت ما روی اسم آن کلیک کنید

دبستان

اول	دوم	سوم	چهارم	پنجم	ششم
-----	-----	-----	-------	------	-----

متوسطه اول

هفتم	هشتم	نهم
------	------	-----

متوسطه دوم

دهم	یازدهم	دوازدهم
-----	--------	---------