

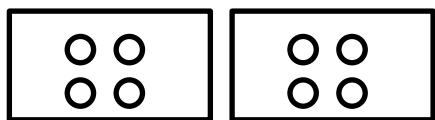
تاریخ: .....

پایه: دوام

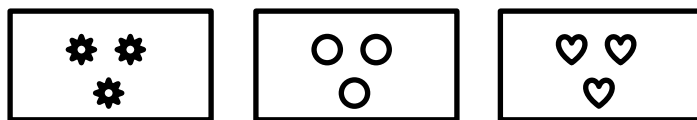
## فصل اول شمارش چندتا چندتا

نام و نام خانوادگی: .....

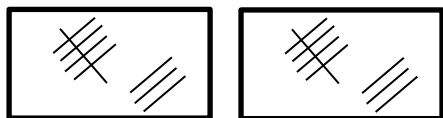
۱. برای هر یک از شکل های زیر جمع بنویس.



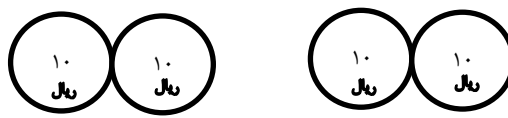
..... + ..... = .....



..... + ..... + ..... = .....



..... + ..... = .....



..... + ..... = .....

۲. در جاهای خالی علامت ( $<$   $=$   $>$ ) بگذار.

۶۵ ○ ۵۶

۸۱ ○ ۲۴

۵ + ۴ ○ ۳ + ۴

۹ - ۷ ○ ۸ - ۸


بیشترین عدد یک رقمی ○ کمترین عدد دو رقمی

۶ تا ده تایی و ۲ یکی ○ ۲ ده تایی و ۶ یکی

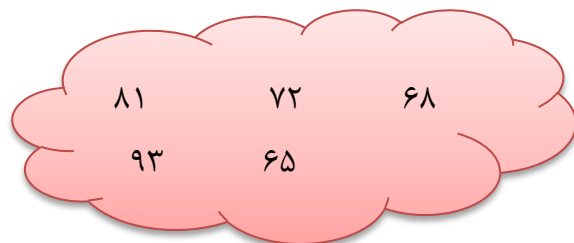

۹۰ ○ ۸۳

الف)	۱۹	۵۰	۹	۴۸	۹۱
ب)	۲۸	۷۰	۷۸	۸۷	۷۷
ج)	۹	۸۱	۴۵	۹۰	۰

۳. در هر ردیف اعداد، دور عدد بیشتر خط بکش.



۴. عددها را از کمتر به بیشتر روی برگ ها بنویس.






۹. الگوی عددی زیر را ادامه بده.


..... و ..... و ..... و ..... و ۴۲ و ۳۲ و ۲۲





..... و ..... و ..... و ..... و ۲۰ و ۱۶ و ۱۲

۱۰. حاصل جمع های زیر را به دست آور.

الف)  $5 + 10 + 10 + 3 =$  

ج)  $20 + 10 + 10 + 5 + 2 =$  

ب)  $5 + 5 + 20 + 10 =$  

د)  $30 + 40 + 2 + 5 =$  

۱۱. از ۲۰ سیبی که در سبد است، ۱۲ تا سیب سرخ و بقیه سبز است. چند سیب سبز در سبد است؟ (از راه شکل)

۱۲. با رقم های (۷ و ۰ و ۲) هر چند عدد دو رقمی که می توانی بنویس.

۱۳. از زهرا پرسیدند چند سال داری؟ گفت ۷ سال دیگر ۱۶ ساله می شوم.  
زهرا اکنون چند سال دارد؟

# پیاموز | Biamoz.com

بزرگترین مرجع آموزشی و نمونه سوالات درسی تمامی مقاطع

شامل انواع | نمونه سوالات | فصل به فصل | پایان ترم | جزوه |

ویدئوهای آموزشی | گام به گام | طرح درس | طرح جابر | و ...

اینستاگرام

گروه تلگرام

کانال تلگرام

برای ورود به هر پایه در سایت ما روی اسم آن کلیک کنید

## دبستان

اول	دوم	سوم	چهارم	پنجم	ششم
-----	-----	-----	-------	------	-----

## متوسطه اول

هفتم	هشتم	نهم
------	------	-----

## متوسطه دوم

دهم	یازدهم	دوازدهم
-----	--------	---------