

۱- الگوها را ادامه بده  $۱۰-۲۰-.....-.....-.....-.....-.....-.....-۹۰$

$.....-.....-.....-.....-.....-.....-.....-۵۰-۵۵$

$۷-۱۴-.....-.....-.....-.....-.....$

$۶-۱۲-.....-.....-.....-.....-.....$

۲- حاصل جمع های زیر را با چوب خط حل کن .

$۸+۸+۸=.....$

$۴+۵+۸=.....$

۳- در شمارش ۷ تا ۷ تا عدد بعد از ۲۱ چند است ؟

..... : حروف

..... : عدد

۴- رقم یکان ۸ و رقم دهگان ۵ است

..... : حروف

..... : عدد

رقم یکان ۰ و رقم دهگان ۲ است

..... : حروف

..... : عدد

رقم یکان ۹ و رقم دهگان ۳ است

۵- یک عدد ۲ رقمی بنویسید که رقم یکان آن ۹ و رقم دهگان آن ۴ تا کمتر از رقم یکان باشد .

۶- عدد های قبل و بعد را بنویس

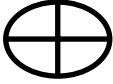





$.....-.....-.....-.....-.....-.....-۱۵$

۷- علی ۹ تا گل دارد . رضا هم ۶ گل دیگر به او می دهد . علی چند گل دارد .

۸- فاطمه ۱۸ کتاب داستان دارد . او امروز در کتاب فروشی ۵ کتاب دیگر خرید . حالا او چند کتاب دارد ؟

۹- عدد هر دسته را بنویس چوب خط آن هم بکش

			
.....	.....	.....	.....




۱۰- جمع هایی که حاصل آن با عدد بالای هر ستون برابر است بنویس

۵

۸

.....+.....  
 .....+.....  
 .....+.....  
 .....+.....

.....+.....  
 .....+.....  
 .....+.....  
 .....+.....

۱۱- حاصل عبارت های زیر را با محور حل کن



۱۲- ساعت چند است؟



.....



کمی مانده به ....



۸



۵

۱۳- با کارت های ۸ - ۲ عدد دورقمی بساز .....

با رقم های ۵ - ۹ عدد دورقمی بساز .....

۱۴- با حروف بنویس هشت - .....

هفده - .....

سی ونه - .....

خسته نباشید گل من

# پیاموز | Biamoz.com

بزرگترین مرجع آموزشی و نمونه سوالات درسی تمامی مقاطع

شامل انواع | نمونه سوالات | فصل به فصل | پایان ترم | جزوه |

ویدئوهای آموزشی | گام به گام | طرح درس | طرح جابر | و ...

اینستاگرام

گروه تلگرام

کانال تلگرام

برای ورود به هر پایه در سایت ما روی اسم آن کلیک کنید

## دبستان

اول	دوم	سوم	چهارم	پنجم	ششم
-----	-----	-----	-------	------	-----

## متوسطه اول

هفتم	هشتم	نهم
------	------	-----

## متوسطه دوم

دهم	یازدهم	دوازدهم
-----	--------	---------