



۱. شکل های زیر را دسته بندی کرده و جدول را کامل کن. سپس عدد را از جدول خارج کرده و با حروف بنویس.



با عدد:

با حروف:

۲. جاهای خالی را پر کن.



۴۸ برابر است یکی ده تایی

۳ ده تایی و ۸ یکی می شود

۹۰ از دسته ده تایی درست شده است.

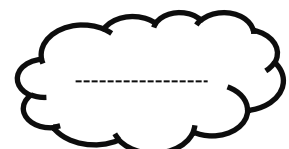
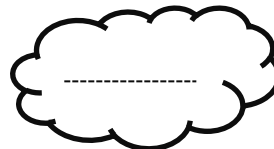

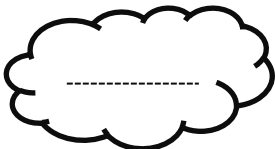
۴۲ یکی دارد.

۳. عدد ۶۸ چند رقم دارد؟

✓ رقم هایش را نام ببر. و

✓ آیا با این رقم ها می توان عدد دیگری نوشت؟ آن را بنویس.

۴. با رقم های ۵ و ۳ هر چند تا که می توانی عدد ۲ رقمی که بنویس.



۵. در مربع سمت چپ دور بیشترین عدد و در مربع سمت راست دور کمترین عدد دورقمی خط بکش.

۳۱		۱۹
	۵۹	
۳		۲۰

۹۸		۴۶
	۱۸	
۲۴		۱۵

۶. نوشتن عددهای زیر را ادامه بده و جاهای خالی را پر کن.

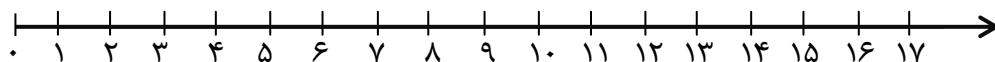
		سی و پنج			سی و دو			
۱۹					۲۴			

۷. یک عدد دو رقمی بنویس که مجموع رقم هایش ۷ باشد.

۸. دور عدد بیشتر از ۳۶ خط بکش.

۳۷ - ۸ - ۴۲ - ۷۶ - ۲۱ - ۵۴ - ۱۷


۹. پروانه یک بسته ده تایی و ۶ یکی مداد داشت. او ۸ مداد به دوستش داد. حالا او چند مداد دارد؟ (با محور)




۱۰. در یک فروشگاه نان، ۸ نوع نان سنتی و ۹ نان فانتزی پخت می شود. در این فروشگاه چند نوع نان پخت می شود؟ (با چوب خط)

۱۱. الگوی شکل زیر را کامل کن.



۱۲* با توجه به عددهای داده شده، عدد داخل  کدام یک از گزینه های زیر است؟

۲۴ و  و ۲۸ و ۳۰

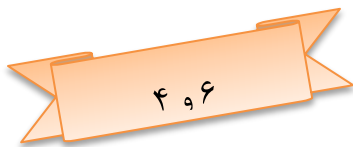
- الف) ۲۲
- ب) ۲۳
- ج) ۲۶
- د) ۳۰

۱۳* مریم ۳ مانتو دارد. دو تا از مانتوهای او ۵ دکمه و یک مانتو ۶ دکمه دارد. مانتوهای مریم چند دکمه دارد؟

- الف) ۱۴
- ب) ۱۵
- ج) ۱۷
- د) ۱۶

۱۴. رضا ۲ بسته مداد رنگی ده تایی و ۸ یکی داشت. او ۷ مداد رنگی دیگر از مادرش گرفت. حالا او چند مداد رنگی دارد؟ (از راه شکل)

۱۵. با رقم های ۶ و ۴ عددهای دو رقمی بنویس.



* ۱۶. کدام یک از گزینه های زیر یک الگوی عددی می باشد؟


- | | |
|---|--|
| <input type="checkbox"/> الف) ۸، ۱۵، ۲۲، ۲۸، ۳۵ | <input type="checkbox"/> ب) ۵، ۱۱، ۱۷، ۲۴، ۳۰ |
| <input type="checkbox"/> ج) ۳، ۱۲، ۲۱، ۳۰، ۳۹ | <input type="checkbox"/> د) ۱۱، ۱۵، ۱۹، ۲۲، ۲۶ |

* ۱۷. اگر بیشترین عدد یک رقمی را با خودش جمع کنیم و ۷ را از آن کم کنیم، پاسخ کدام عدد است؟

- | | | | |
|----------------------------------|--------------------------------|--------------------------------|--------------------------------|
| <input type="checkbox"/> الف) ۱۰ | <input type="checkbox"/> ب) ۱۱ | <input type="checkbox"/> ج) ۱۲ | <input type="checkbox"/> د) ۱۳ |
|----------------------------------|--------------------------------|--------------------------------|--------------------------------|

* ۱۸. در یک باغ، چند درخت سیب وجود دارد. در هر روز پنج سیب رسیده از هر درخت بر روی زمین می افتد. اگر باغبان دیروز بیت سیب را از روی زمین جمع کرده باشد. بگویید این باغ چند درخت سیب دارد؟

- | | | | |
|---------------------------------|-------------------------------|-------------------------------|-------------------------------|
| <input type="checkbox"/> الف) ۴ | <input type="checkbox"/> ب) ۵ | <input type="checkbox"/> ج) ۶ | <input type="checkbox"/> د) ۷ |
|---------------------------------|-------------------------------|-------------------------------|-------------------------------|



پیاموز | Biamoz.com

بزرگترین مرجع آموزشی و نمونه سوالات درسی تمامی مقاطع

شامل انواع | نمونه سوالات | فصل به فصل | پایان ترم | جزوه |

ویدئوهای آموزشی | گام به گام | طرح درس | طرح جابر | و ...

اینستاگرام

گروه تلگرام

کانال تلگرام

برای ورود به هر پایه در سایت ما روی اسم آن کلیک کنید

دبستان

اول	دوم	سوم	چهارم	پنجم	ششم
-----	-----	-----	-------	------	-----

متوسطه اول

هفتم	هشتم	نهم
------	------	-----

متوسطه دوم

دهم	یازدهم	دوازدهم
-----	--------	---------