

7- حاصل جمع و تفریق های زیر را به دست آورید .

$$\begin{array}{r} 46 \\ +32 \\ \hline \end{array}$$

.....
+
.....

$$\begin{array}{r} 23 \\ +46 \\ \hline \end{array}$$

.....
+
.....

$$\begin{array}{r} 71 \\ +24 \\ \hline \end{array}$$

.....
+
.....

$$\begin{array}{r} 55 \\ +36 \\ \hline \end{array}$$

.....
+
.....

$$\begin{array}{r} 85 \\ +12 \\ \hline \end{array}$$

.....
+
.....

$$\begin{array}{r} 49 \\ +40 \\ \hline \end{array}$$

.....
+
.....

$$\begin{array}{r} 97 \\ -52 \\ \hline \end{array}$$

.....
-
.....

$$\begin{array}{r} 75 \\ -23 \\ \hline \end{array}$$

.....
-
.....

$$\begin{array}{r} 80 \\ -47 \\ \hline \end{array}$$

.....
-
.....

$$\begin{array}{r} 38 \\ -23 \\ \hline \end{array}$$

.....
-
.....

$$\begin{array}{r} 91 \\ -24 \\ \hline \end{array}$$





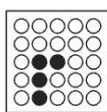
.....
-
.....

$$\begin{array}{r} 67 \\ -35 \\ \hline \end{array}$$

.....
-
.....

7

7



?



۱



۲



۳



۴



۵



۶

تست هوش :

به جای علامت سؤال می بایست

کدام یک از تصاویر 1 تا 6 را

قرار دهیم ؟

پیاموز | Biamoz.com

بزرگترین مرجع آموزشی و نمونه سوالات درسی تمامی مقاطع

شامل انواع | نمونه سوالات | فصل به فصل | پایان ترم | جزوه |

ویدئوهای آموزشی | گام به گام | طرح درس | طرح جابر | و ...

اینستاگرام

گروه تلگرام

کانال تلگرام

برای ورود به هر پایه در سایت ما روی اسم آن کلیک کنید

دبستان

اول	دوم	سوم	چهارم	پنجم	ششم
-----	-----	-----	-------	------	-----

متوسطه اول

هفتم	هشتم	نهم
------	------	-----

متوسطه دوم

دهم	یازدهم	دوازدهم
-----	--------	---------